

## 绵阳市高中2018级第一次诊断性考试

### 文科综合

#### 注意事项:

1. 答卷前, 考生务必将自己的班级、姓名、考号填写在答题卡上。
2. 回答选择题时, 选出每小题答案后, 用铅笔把答题卡上对应题目的答案标号涂黑。如需改动, 用橡皮擦干净后, 再选涂其它答案标号。回答非选择题时, 将答案写在答题卡上。写在本试卷上无效。
3. 考试结束后, 将答题卡交回。

一、选择题: 本卷共 35 个小题, 每小题 4 分, 共 140 分。在每小题给出的四个选项中, 只有一项是符合题目要求的。

京昆高速雅安—西昌段, 由四川盆地 toward 横断山区攀升, 设计速度 80km/h, 被称作“天梯高速、云端上的高速公路”。沿途设有多个避险车道。图 1a 为雅西高速某段公路示意图。图 1b 为拍摄的雅西高速某一路面车道图片。据此完成 1~3 题。

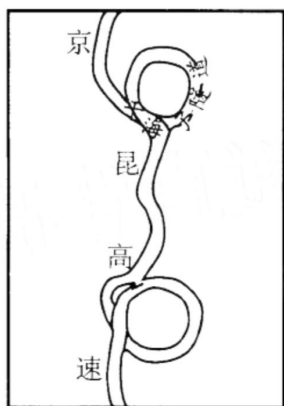


图 1a




图 1b

1. 雅西高速公路设计时速 80km/h, 主要是因为沿线  
A. 城镇密行人多      B. 气候干风沙多      C. 地势险雨雾多      D. 旅游景点多
2. 在某一路段设置避险车道, 主要是因为该路段  
A. 桥隧相连      B. 道路弯又窄      C. 路面凹凸不平      D. 坡道长又陡
3. 图中甘海子隧道呈螺旋状攀升, 目的是为了  
A. 以长度换取高度      B. 野生动物自由穿行  
C. 避开自然断裂带      D. 沿途居民出行方便

图2为世界局部地区5~10月降水量(单位: mm)分布示意图。据此完成4~5题。

4. 该时段, P地与Q地降水量差的最大值可能是下列

- A. 250mm
- B. 500mm
- C. 1000mm
- D. 1250mm

5. 导致P、Q两地降水差异的主要因素是

- A. 洋流性质
- B. 大气环流
- C. 海陆位置
- D. 地形因素

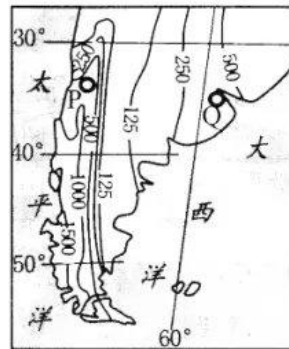


图2

布伦口湖位于我国新疆西部帕米尔高原上, 原为季节性湖泊, 环湖周围常年大风肆虐。岸边绵延着多座相对高度百米以上的山丘, 因终年被白色细沙覆盖, 故名白沙山。为蓄水发电, 2012年湖泊被改造为水库。图3示意湖泊及其周边地形。据此完成6~8题。

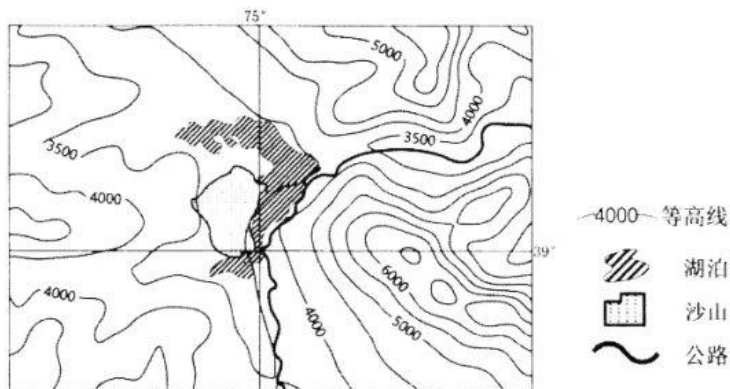


图3

6. 水库修建前, 布伦口湖湖水的最高水位出现在

- A. 3—5月
- B. 6—8月
- C. 9—11月
- D. 12—次年2月

7. 推断形成白沙山的主导风向最可能是

- A. 偏东风
- B. 偏西风
- C. 偏北风
- D. 偏南风

8. 相较于湖面, 水库建成后白沙山的相对高度比建成前

- A. 整体升高
- B. 整体不变
- C. 年内季节变化减小
- D. 年内季节变化增大

川西云杉林是青藏高原海拔分布最高的树种, 对气候变化十分敏感。科学家们通过比较该树种不同海拔、树龄、不同时期的生物量变化来揭示其对气候变化的响应差异。研究显示, 两个时期相比(表1), 2006—2100年, 该树种的生物量增加, 短期(0—20年)和中期(30—50年)幼龄树生物量增加最多, 长期则为中龄树生物量增加最多。据此完成9~11题。

表 1

时期	每 10 年气温平均升高	每 10 年降水平均增加
1970—2005 年	0.2℃	46.6mm
2006—2100 年	0.5℃	4.5mm

9. 从表格数据判断, 2006—2100 年青藏高原的气候变化趋势为  
 A. 暖湿                      B. 暖干                      C. 冷湿                      D. 冷干
10. 中、短期川西云杉幼龄树生物量的增加最多, 其生物量增长的主导因素应是  
 A. 土壤                      B. 光照                      C. 温度                      D. 水分
11. 推测 2006—2100 年, 相同树龄的川西云杉林生物量的增加  
 A. 高海拔区最多                      B. 中海拔区最多  
 C. 低海拔区最多                      D. 各海拔大致相同
12. 2020 年夏季, 我国多地出现大范围降雨降水, 部分地区出现洪涝灾害, 导致很多蔬菜生产基地减产, 甚至颗粒无收。在此期间, 伴随着国内疫情形势好转, 学校复学, 餐饮业复苏, 引发了消费者对蔬菜价格的担忧。下列图 4 能够正确描绘这一担忧的是

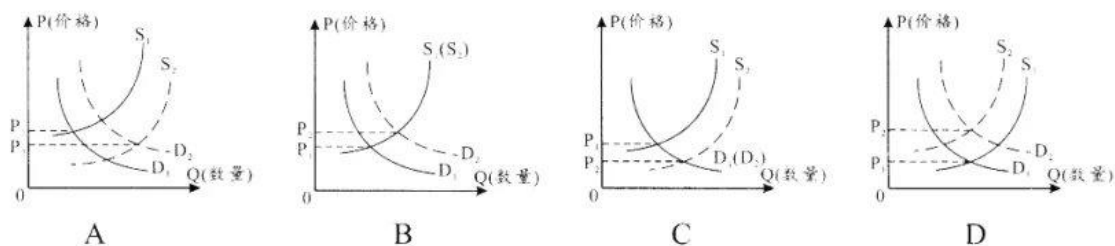


图 4

13. 2020 年 6 月, 国企改革三年行动方案通过, 首次提出了支持国企民企之间兼并重组和战略性组合, 促进国有企业和民营企业改革发展。它们之间兼并重组和战略性组合有利于  
 ①推动国企提质增效, 提高核心竞争力  
 ②调整资本结构, 降低企业经营风险  
 ③提高国有经济在国民经济中的比重, 做优做强国有企业  
 ④为民营企业发展创造公平竞争环境, 激发市场主体活力  
 A. ①②                      B. ①④                      C. ②③                      D. ③④
14. 就业弹性是就业增长率与 GDP 增长率的比值, 即经济增长每变化一个百分点所对应的就业数量变化的百分比。表 2 反映了 1996 年——2018 年我国不同产业就业弹性的变化情况, 由此可以推断出

表 2

	1996—2000	2001—2005	2006—2010	2011—2015	2016—2018
总体	0.13	0.07	0.03	0.04	0.01
第一产业	-0.27	-0.12	-0.78	-0.98	-1.02
第二产业	0.15	0.04	0.37	0.23	-0.15
第三产业	0.55	0.31	0.25	0.37	0.55

- ①当前要保持较高的就业弹性，应大力发展现代服务业
- ②农业和工业的现代化水平提高，使就业弹性降低
- ③经济结构优化升级，必然会导致就业弹性系数变小
- ④第三产业在国民经济中占比不断攀升，导致总体就业弹性降低

A. ①②                      B. ①④                      C. ②③                      D. ③④

15. 制造业是实体经济的基础，小微企业是实体经济的重要组成部分。为实现“六稳六保”目标，我国货币政策持续发力，为实体经济发展提供了充足资金支持。有关此政策推导正确的是

- A. 推动实体企业债转股→降低企业负债率→提升企业营利能力
- B. 提高银行存款利率→增强实体企业存款意愿→增加存款收益
- C. 提高财政贴息率→缓解小微企业融资贵→激发企业生产活力
- D. 降低存款准备金率→缓解小微企业融资难→调动企业投资积极性

16. 长期以来，土地增值收益取之于农、主要用之于城，不利于农业农村的发展。2020年9月23日，国务院印发了《关于调整完善土地出让收入使用范围优先支持乡村振兴的意见》，强调要按照“取之于农、主要用之于农”的要求，到2025年，土地出让收益用于农业农村比例达到50%以上。该政策实施意在

- ①促进城市带动乡村，推动城乡一体化发展
- ②发挥政府再分配调节功能，促进资源优化配置
- ③调整土地出让收益城乡分配格局，补上“三农”发展短板
- ④增加农村土地出让收益，为乡村振兴战略提供资金来源

A. ①②                      B. ①④                      C. ②③                      D. ③④

17. 深圳特区成立40年来，以高水平的开放推动建设开放型经济。2020年1—8月深圳进出口总值达到1.88万亿元人民币，同比增长2%，增幅居全国前五大外贸城市首位。其中，出口1.04万亿元，规模继续位列全国大中城市第一。这主要得益于

- ①实施出口市场多元化战略，积极开拓国际市场
- ②成立经济特区时间最早，贸易国际化程度最高
- ③不断放松市场准入门槛，吸引外资能力不断增强
- ④实施创新驱动发展战略，形成了出口竞争新优势

A. ①②                      B. ①④                      C. ②③                      D. ③④

厉行节约是一场“持久战”，形成长效机制，完善法律制度是遏制粮食浪费的有力保障。

据此回答18—19题。

18. 一粒米，千滴汗，粒粒粮食汗珠换。设置小份菜、半份菜、拼盘，鼓励饭后打包……这些创新举措表明，倡导和践行“俭法”生活正在成为一种新的社会风尚。倡导和践行“俭法”生活

- ①遵循了量入为出，适度消费的原则
- ②践行了勤俭节约，艰苦奋斗的传统
- ③符合绿色消费主旨，是保护环境的需要
- ④有利于营造爱粮节粮氛围，保障粮食安全

A. ①②                      B. ①③                      C. ②④                      D. ③④

19. 当前，粮食安全保障法已列入全国人大常委会立法规划。2020年9月以来，全国人大常委会专题调研组分赴北京、天津、河北、山东、河南等5省（市）开展了为期一个多月的珍惜粮食、反对浪费专题调研。开展此项专题调研
- ①有助于提高相关立法工作的科学性
  - ②能为相关立法工作提供较为充足信息资源
  - ③能为全社会餐饮消费提供基本行为准则
  - ④是全国人大常委会行使立法权的直接表现
- A. ①②                      B. ①④                      C. ②③                      D. ③④
20. 2020年10月，国务院办公厅出台了《关于加快推进政务服务“跨省通办”的指导意见》，旨在从高频政务服务事项入手，推动2021年底前基本实现高频政务服务事项“跨省通办”，有效满足各类市场主体和广大人民群众异地办事需求。推进政务服务“跨省通办”意在
- ①提高政务服务便捷度，提升人民群众获得感
  - ②拓展政府基本职能，健全基本公共服务体系
  - ③减轻地方政府工作压力，提高政府行政效率
  - ④丰富办事渠道，提升政府政务服务能力
- A. ①②                      B. ①④                      C. ②③                      D. ③④
21. 2020年6月以来，各级人民法院选取具有典型性、时代性的民法案例，以线上与线下相结合的方式坚持以案释法，让民法典走到群众的身边、走进群众的心里。此举
- ①有助于全民法治观念的提升，推进法治社会建设
  - ②有利于增强司法裁判的可接受性，推动法律实施
  - ③是推进司法公正，实现社会公平正义的内在要求
  - ④能够依法依规保护群众利益，让司法工作有法可依
- A. ①②                      B. ①③                      C. ②④                      D. ③④
22. 2020年7月8日，中央人民政府驻香港特别行政区维护国家安全公署挂牌成立。作为中央政府的派出机构，驻港国安公署担负着监督、指导、协调、支持香港特别行政区维护国家安全，在特定情形下依法办理危害国家安全犯罪案件等重要职责。驻港国安公署的设立
- ①是中央政府维护国家安全最根本的举措
  - ②有利于领导香港特别行政区的执法机构
  - ③有利于维护香港特别行政区长期繁荣稳定
  - ④标志香港维护国家安全的执行机制基本形成
- A. ①②                      B. ①④                      C. ②③                      D. ③④
23. 今年以来，新疆对10个未摘帽贫困县进行挂牌督战，与挂牌督战县对口的7个援疆省市投入扶贫资金33.85亿元，实施扶贫项目232个，有力支持了挂牌督战县如期高质量完成脱贫攻坚任务。这表明
- ①各民族共同繁荣是民族区域自治制度的核心
  - ②民族地区的脱贫攻坚有坚实的经济政治基础
  - ③民族团结是实现各民族共同繁荣的重要保障

④对口扶持是民族贫困地区脱贫发展的关键

A. ①②

B. ①④

C. ②③

D. ③④

24. 两河流域、印度河流域等世界原生文明诞生地的形成空间均不过数十万平方公里，唯有中华文明的形成覆盖了长江、黄河及辽河流域的面积近 300 万平方公里的范围。这凸显出中华文明形成之时便具有
- A. 多元一体的政治格局  
B. 以德治民的民本思想  
C. 厉行专制的集权意识  
D. 农耕经济的高度繁荣
25. 图 5《废井田，开阡陌》是当代画家张友仁的作品。他根据战国时期商鞅变法的史实创作，曾作为中学历史教材插图而广为人知。该作品



图 5

- A. 创作源于画家的生活实践  
B. 能完整还原历史真实  
C. 是对历史的一种艺术表达  
D. 体现写意传神的特点
26. 北魏时期，孝文帝深叹“移风易俗，实为甚难”，南迁洛阳后，留在北方边镇民众甚至出现了鲜卑化趋势。而在南方，新汉族较多地保存了北方汉族之文化传统，“蛮气”则显得不足。南北民族交融的差异缘于
- A. 区域地理环境  
B. 经济发展水平  
C. 汉文化影响力  
D. 政府推行力度
27. 唐律规定“奴婢比之资财”，“律比畜产”，地位低下。宋代除少数官奴婢外，私奴往往订立契约，约以时限，付以雇值，又称“女使”。这反映了宋代
- A. 宗法等级观念淡薄  
B. 人身依附关系弱化  
C. 女性政治地位提高  
D. 雇佣劳动开始出现
28. 16—18 世纪，“南海”是东西方贸易的集中地，中国的“朝贡贸易”规则被世界各国普遍遵守，白银产量的一半也流入中国，“南海”因此有“东方地中海”之称。该局面的形成主要得益于
- A. 农耕文明的发达  
B. 郑和下西洋的推动  
C. 海禁政策的松弛  
D. 白银货币化的影响
29. 明清商人群体中常见“抱德怀才岂惮贫，广行方便方施仁。光明正大无荣辱，留此心田荫后人”。“处世为人做一场，要留名节与纲常”之类的劝诫。这反映出当时
- A. 尊富尚利意识的盛行  
B. 社会风尚发生转变  
C. 儒家财富观受到冲击  
D. 商人责任意识增强

30. 传统观点认为,《天朝田亩制度》是对古代农民起义“均田免粮”思想的发展。后来有学者认为,均田纲领是长期以来客家先民心理积淀的一种折射,它主要解决的是土、客矛盾,而不是贫富悬殊的问题,带有浓厚的华南乡土色彩。据此可知,这一认识
- A. 推翻了传统的研究观点  
B. 拓宽了历史研究的视野  
C. 缺乏对古代农民的关注  
D. 比传统观点更值得可信
31. 1893年,清廷采纳薛福成建议,允许“良善商民无论在洋久暂,婚娶生息,一概准由出使大臣或领事给予护照,任其回国谋生,置业与内地人民一律看待,并听其随时经商出洋”。这表明清政府
- A. 重农抑商政策开始转变  
B. 试图摆脱西方列强控制  
C. 强化对海外侨民的管理  
D. 对世界形势的认识加深
32. 古希腊曾在周边建立了139个殖民城邦,形成了一个包括南欧,西欧,西亚,北非的大希腊世界。在扩张中,子邦往往采用母邦的宪政制度,在经济,宗教,文化上保持联系,但并无隶属关系。据此可知,古希腊的殖民扩张
- A. 加速了希腊半岛统一  
B. 推广了城邦自治体制  
C. 消除了公民内部矛盾  
D. 促成民主政治的形成
33. 1485—1536年,英国获得自治权的城市仅13个。随着大小修道院的解散,大量教会财产投入市场,此后自治城市迅速增长,百年间达150个之多。这反映了当时
- A. 圈地运动助推城市化进程  
B. 启蒙思潮引发了革命风暴  
C. 宗教改革影响到国家治理  
D. 工业革命改善了城市风貌
34. 在美国,曾有宗教保守派视铁路为“将不朽灵魂引入地狱的撒旦装备”,但很快“贫困的牧师们匆忙改信了蒸汽机,不久就在机车油门上看见了上帝之手”。大都市气势恢宏的火车站成了与大教堂一样的地标性建筑。这表明铁路建设
- A. 引发了价值观念更新  
B. 推动了生产力的迅速发展  
C. 增强了殖民扩张动力  
D. 动摇了民众对上帝的信仰
35. 表3是1750年—1900年世界制造业产量的相对份额(%)。

表3

国别 \ 时间	1750年	1800年	1830年	1860年	1880年	1900年
英国	1.9	4.3	9.5	19.9	22.9	18.5
德意志诸邦/德国	2.9	3.5	3.5	4.9	8.5	13.2
美国	0.1	0.8	2.4	7.2	14.7	23.6
中国	32.8	33.3	29.8	19.7	12.5	6.2
印度	24.5	19.7	17.6	8.6	2.8	1.7

从表中可以得出的结论是

- A. 18世纪中国经济引领世界潮流  
B. 西方列强争夺世界市场矛盾尖锐  
C. 工业化浪潮缩小了东西方差距  
D. 世界经济中心从亚洲转移到欧美

二、非选择题：本卷包括必考题和选考题两部分，共 160 分。第 36~42 题为必考题，每个试题考生都必须作答。第 43~46 题为选考题，考生根据要求作答。

(一) 必考题：135 分

36. 阅读图文材料，完成下列要求。(24 分)

在塔克拉玛干沙漠北缘、天山南麓的阿克苏城区北郊和东郊有一条东西宽约 2 公里，南北长 25 公里的人工林带(图 6)。这里曾是荒漠戈壁，生态环境脆弱。1986 年，阿克苏启动柯柯牙绿化工程，从克服恶劣的自然条件种树，到“以林养林”模式的形成，绿色发展理念已成为几代人的共识。如今这里不仅有防护林，还有超过 60% 的经济林、基础配套设施，昔日的荒漠戈壁变成了今日的绿水青山和老百姓致富的“金山银山”。

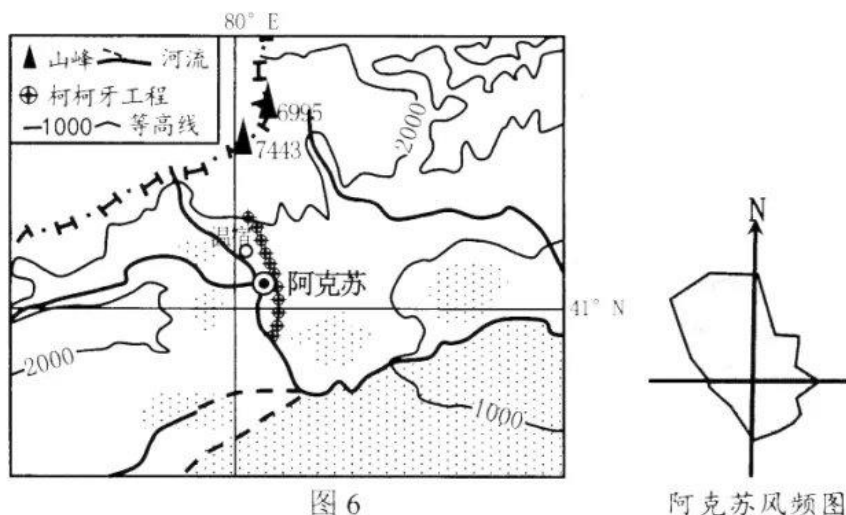


图 6

阿克苏风频图

(1) 列举在阿克苏地区种树需要克服的两类恶劣自然条件。(4 分)

(2) 分析绿化工程呈条带状建在城市东边的原因。(6 分)

(3) 说出柯柯牙绿化工程给当地局地小气候带来的改变。(8 分)

(4) 有人提议将目前由新疆杨、胡杨、沙枣、红枣、苹果、香梨组成的混交林，全部改为由红枣、苹果、香梨组成的混交林。你是否赞同，请表明态度并说明理由。(6 分)

37. 阅读图文材料，完成下列要求。(22 分)

广西大化县七百弄国家地质公园属于典型的岩溶山区，是世界上发育最典型的高峰丛、深洼地(当地俗称弄场)喀斯特地貌地区。该地年降雨量 1500~1600mm，高温多雨的气候促进了可溶性碳酸盐岩的溶蚀，深洼地、谷地、地下河、洞穴、钟乳石等极为发育，园内有 2566 个洼地，其中 300m 以上的深洼地 114 个，平均深度 377.3m，居民多生活在洼地底部。区域自然环境受到人为破坏之后，水土流失较严重，旱涝多发。图 7 示意七百弄深洼地的发育过程。

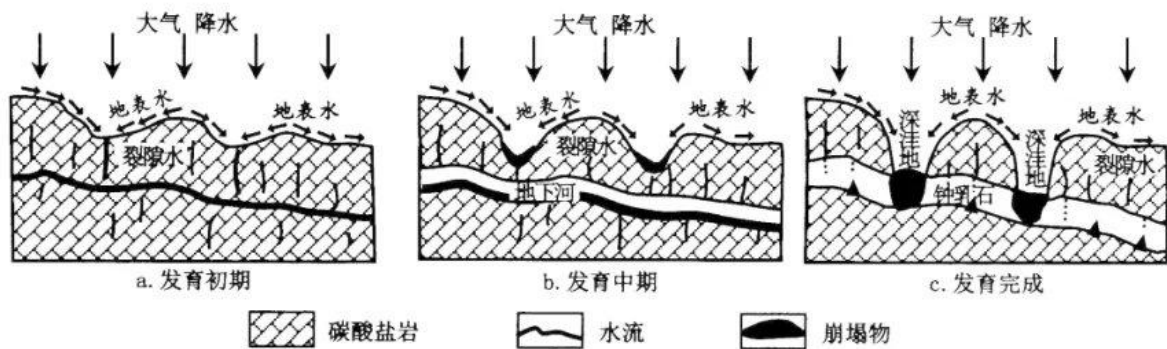


图 7

- (1) 分析七百弄深洼地旱涝多发的自然原因。(8分)
- (2) 提出改善七百弄深洼地农业和生活缺水的工程措施。(4分)
- (3) 据图说明七百弄深洼地的形成过程。(10分)

38. 阅读材料，完成下列要求。(12分)

受全球疫情冲击，世界经济严重衰退，国内消费、投资下滑，国内经济循环受阻，加强“两新一重”建设，是当前促进国内经济大循环的重要抉择。

“两新一重”建设，即新型基础设施建设、新型城镇化建设和交通、水利等重大工程建设，主要以技术创新为驱动，发展新一代信息网络，加大住房、医疗、教育等领域的投资，推进交通、水利等重大工程项目建设。加强既促消费惠民生，又调结构增后劲的“两新一重”建设为各行各业和生产生活提供了“新联通”，对释放有效投资红利，激发社会消费活力，促进国内大循环意义重大。

结合材料和所学经济知识，分析加强“两新一重”建设对畅通国内经济大循环的作用。

(12分)

39. 阅读材料，完成下列要求。(12分)

编制和实施国民经济和社会发展五年规划，是我国政治生活中的大事。为编制好“十四五”规划，习近平总书记主持召开系列座谈会，发扬民主、开门问策、集思广益，听取了各民主党派中央、全国工商联负责人和无党派人士代表等党外人士的意见和建议。2020年8月，又先后主持召开经济社会领域专家座谈会、教育文化卫生体育领域专家代表座谈会、基层代表座谈会等，听取了社会各界对“十四五”时期经济社会发展的意见和建议。同时，在党内征求各方意见，党的十九大代表对“十四五”规划建议稿给予充分肯定，同时提出了意见和建议。

建议稿在充分吸收各地区各部门各方面意见的基础上，于10月26日提请中共十九届五中全会审议，这是我国社会主义协商民主的生动实践。

结合材料并运用政治生活知识，分析“十四五”规划编制过程是如何体现社会主义协商民主的？(12分)

40. 阅读材料，完成下列要求。（28分）

推动经济高质量发展，完善国家治理体系是习近平治国理政的重要思想。

集成电路产业是引领新一轮科技革命和产业变革的关键力量。长期以来，我国集成电路行业的核心技术受制于人。为推动集成电路行业的发展，2020年7月，国家出台了新时期促进集成电路产业高质量发展的相关政策，对集成电路设计、装备、材料、封装、测试企业实行不同程度的企业所得税优惠；充分利用政府投资基金和社会资本设立的投资基金支持集成电路产业发展；加快推进集成电路一级学科设置工作，鼓励有条件的高校采取与集成电路企业合作的方式，加快推进示范性微电子学院建设；严格落实集成电路知识产权保护制度，加大知识产权侵权违法行为惩治力度。通过多措并举，力图突破集成电路产业核心技术，增强产业链的安全性。

M村在乡村治理中积极探索积分制取得了良好的效果。积分制是在农村基层党组织领导下，积极推行乡村治理方式的创新，采用积分内容群众定，积分方式群众议，积分结果群众评，把农村经济社会的方方面面都细化成具体积分指标，把纷繁复杂的村级事务标准化、具象化，让乡村治理工作有了可量化的指标。通过积分制的实施将乡村治理与发展乡村产业、塑造文明乡风、扶贫济困等乡村振兴的重点任务进行有机结合，对加强和改进乡村治理、促进乡村全面振兴产生了积极作用。

（1）结合材料和所学经济知识，说明国家促进集成电路产业高质量发展相关政策的合理性。（12分）

（2）结合材料，运用政治生活知识说明积分制在乡村治理中的积极作用。（12分）

（3）某村拟通过积分制加强和改进乡村治理，请你设计两条可以纳入积分制考核的项目。（4分）

41. 阅读材料，完成下列要求。（25分）

**材料一** 唐宋时期，在商品经济更高程度发展基础上，一批富民乘势而起，形成了“富民社会”。顾名思义，“富民”是占有财富的人。但就富民来说，“虽田连阡陌，家资钜万，亦只与耕种负贩者同是一等齐民”，没有任何特权。因为没有特权，他们主要通过租佃契约实现对耕种者的剥削。伴随国家赋税的征收方式和乡里制度的变革，富民逐渐成为乡村控制的主要力量。中国社会也向流动化、市场化、平民化方向发展。“富民社会”之后，从理论上说，随着商品经济更高程度的发展，市民阶层逐渐壮大，社会将进入“市民社会”，但具体就中国历史的发展而言，明清时期是否已经形成一个市民阶层还是值得慎重研究的大问题。

——摘编自林文勋《中国古代“富民社会”的形成及其历史地位》

**材料二** 14世纪末，经过三、四个世纪的发展，西欧农民经济社会生活状况已大为改观。在此情况下，西欧农村分化出一批精英分子：富裕农民的兴起。“通常他们有相当于六、七年收入的储蓄。他们有很多家畜，很好的家具、器皿，有三、四床鸭鹅被，有地毯、银盐罐、高脚酒杯、一两打的汤匙。”在英国，通过大面积承租领主自营地或者蚕食小农。到16世纪，50%以上耕地已经集中到他们手中。以此为基础，富农在地方事务中的领袖作用令人瞩目。为了打赢一场官司，他们“不惜每人花20英镑，以斗垮一个不受欢迎的领主”。他们

改变着乡村的经济和政治生活，也改变着他们自身。显然他们是一个崭新阶层的前身，一代新人呼之欲出。

——摘编自侯建新《社会转型时期的西欧与中国》

- (1) 根据材料一、二并结合所学知识，概括中英两国富民阶层的共同特点。(7分)
- (2) 根据材料一并结合所学知识，说明唐宋时期富民阶层兴起产生的重要影响。(8分)
- (3) 根据材料并结合所学知识，分析指出富民阶层在中英两国命运不同的原因。(10分)

42. 阅读材料，完成下列要求。(12分)

材料 我国历史教科书一直重视国防教育，表4是统编历史教科书涉及到的中国近代史国防教育的部分史事。

表4

时间	国防相关史事	说明
1840-1842年	鸦片战争；签订《南京条约》	中国不再享有独立的主权，开始从封建社会变为半殖民地半封建社会
1840-1842	虎门销烟、三元里乡民抗英	显示中国人民反抗外来侵略的坚强意志
1856-1860	第二次鸦片战争；签订《北京条约》；《天津条约》	割九龙司地方一区给英国，中国的国家主权进一步丧失，半殖民地半封建程度加深
19世纪60年代到90年代	洋务运动创办近代军事；建立新式海陆军	中国国防和军队建设迈向近代化
1894-1895	甲午中日战争；签订《马关条约》	中国丧失更多主权，大大加深了半殖民地化程度，外国侵略势力深入中国腹地
1895年	台湾人民抗日武装斗争	体现台湾人民反抗外来侵略的精神
1895年以后	瓜分中国狂潮，各国在中国划分“势力范围”	中国国防体系基本崩溃
1898年	戊戌变法期间，裁减绿营，训练新式军队	统治者不能掌握国家权力，改革失败
19世纪末	义和团运动	具有反帝爱国倾向
1900-1901年	八国联军侵华；签订《辛丑条约》	中国完全陷入半殖民地半封建社会深渊
1911年	辛亥革命	打击了帝国主义在华势力

——摘编自统编历史教科书《中外历史纲要》

根据材料并结合所学知识，围绕历史教科书中国国防教育拟定一个论题，并予以阐述。(要求：论题明确，持论有据，论证充分，表达清晰。)

(二) 选考题：共25分。请考生从2道地理题、2道历史题中每科任选一题作答。如果多做，则按所做的第一题计分。

43. 【旅游地理】(10分)

六盘水市位于贵州西部乌蒙山区，境内瀑布、溶洞、森林、峡谷、湖泊、温泉，比比皆是，山奇、水灵、谷美、石秀，处处成景。六盘水市是“三线”建设发展起来的一座原材料工

业城市，如今正积极将原工厂旧址打造成为“三线文化”传承基地。目前全市共有旅游景区4A级10个、3A级16个、2A级5个。2018年全市旅游总收入超300亿元，增长50.2%。2020年9月21日，以“旅游新使命 健康新生活”为主题的第十五届贵州旅游产业发展大会在六盘水市举办。

指出六盘水市旅游业现状，简述承办本次大会对六盘水市旅游业发展的作用。

#### 44. 【环境保护】（10分）

龙泉山城市森林公园地处成都东侧，基于龙泉山脉进行打造，定位为“世界级品质的城市绿心，国际化的城市会客厅”，在建设过程中十分注重生态保障。生态核心区（山脊）封山育林、恢复自然植被；生态缓冲区（山腰、山麓）整治现有湖泊，新增人工湖；生态游憩区（山前）疏通沟渠、塘、湖，调整种植结构。

说明上述措施对龙泉山生态保障的作用。

#### 45. 【历史——选修1：历史上重大改革回眸】（15分）

**材料** 明治政府大力倡导欧美式教育方针，要求华族、士族、平民及妇女等“一般人民”的子弟“必须从事于学也”，强制贯彻的“国民皆学”方针的政策。对于幕府时代的各种教育设施，明治政府加以重新编组和改造，以资利用。幕府创立的昌平黉、开成所、医学所等高级教育机构，几经改组、调整，在1877年4月合并为拥有法学、理学、文学、医学等4学部的东京大学；诸藩设置的280余所藩校被改设为中学；万余所寺子屋被改造成小学。在以上各类学校中，四民子女无差别地成为同校、同班的同学，接受教材划一的新式教育。武士长期垄断、身份等级差别鲜明的旧文化教育体制，成为历史的陈迹。

——摘编自宋有成《新编日本近代史》

（1）根据材料，概括明治维新在推行教育改革方面的特点。（7分）

（2）根据材料并结合所学知识，简析材料中明治维新教育改革的意义。（8分）

#### 46. 【历史——选修4：中外历史人物评说】（15分）

**材料** 汉魏之际，我国书法艺术发展到一个光辉灿烂的阶段。书家名人也应运而生，其中以钟繇最为著，他的书法风靡魏晋。王羲之家族也以善书著称。据记载，东晋书家中的“八王”，琅琊王氏占去六人。这种时代与家风，使王羲之自幼受到熏陶。他七岁开始学习书法。十一岁时，对历代笔论已心领神会。长大以后，阅历渐广，特别是看到李斯、蔡邕、张旭等人真迹后，勤学苦练，用心钻研，他终于熔各家于一炉，成为一代书圣。他的草楷结合的行书，实现了书法的实用性和艺术的完美性的结合。承前启后，并成为隋唐以来书法发展的主流。他对传统性的程式笔法进行改革，创造了富有表现力的书写方法，使其绚丽异常、丰富多采，赋予了书法生命力。唐太宗在《晋书》给予王羲之的书法极高评价：“详察古今，研精篆素，尽善尽美，其惟王逸少乎！”

——摘编自白寿彝《中国通史》

（1）根据材料并结合所学知识，概述王羲之在书法史上的贡献。（6分）

（2）根据材料并结合所学知识，简要分析王羲之成为一代书圣的原因。（9分）