

文科综合测试题

考试时间：150 分钟 总分：300 分

第 I 卷

本卷共 35 题，每题 4 分，共 140 分。在每题给出的四个选项中，只有一项是最符合题目要求的。

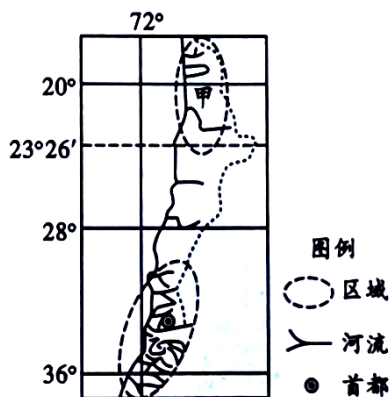
西岛位于海南省三亚湾内，地形以丘陵为主，海底海滩多珊瑚、贝壳等。西岛不仅有美丽的海岛森林风光，还有独特而古老的民居——珊瑚石古屋。这些古屋是上百年以前渔民拾取台风季节冲上岸的石头建造而成，门窗低而小。目前仅存约 200 座，而且年久失修，破旧不堪。据此回答 1~2 题。

1. 西岛早期渔民选用珊瑚石建房的主要原因是当地
 - A. 珊瑚石料美观
 - B. 经济发展落后
 - C. 珊瑚石料丰富
 - D. 木材原料稀少
2. 西岛珊瑚石古屋门窗建造的低而小，其主要目的是
 - A. 削弱太阳辐射
 - B. 减轻台风破坏
 - C. 便于防潮保温
 - D. 加强安全防盗

近年来，伴随着国内经济下行压力不断加大，中国纺织企业逐渐开始海外投资。一种投资方式是“绿地投资”，如甲纺织集团选择墨西哥（墨西哥是北美自由贸易区成员）作为生产基地，从美国进购原材料运到墨西哥生产，再将产品运至美国销售。另一种投资方式是合作，如乙纺织集团采取与发达国家合作，中国主要从事加工制造环节。据此完成 3~5 题。

3. 甲纺织集团选择墨西哥作为生产基地的主要因素是
 - A. 劳动力成本
 - B. 市场广阔
 - C. 技术先进
 - D. 原料充足
4. 乙纺织集团与发达国家合作的主要原因是
 - A. 国内市场饱和
 - B. 国内资金短缺、劳动力充足
 - C. 国家政策支持
 - D. 发达国家研发、品牌优势明显
5. 两种海外投资的根本目的是
 - A. 发挥制造优势
 - B. 提高产业利润
 - C. 实现产业升级
 - D. 占领国际市场

有色金属矿物是岩浆在冷却过程中矿物富集形成的。右图所示国家铜矿资源丰富、品质优、埋藏浅、分布广。该国大量出口铜矿石，开采铜矿需要大量水来控制粉尘。铜矿经济给该国带来经济效益的同时，也造成很多问题。据此完成 6~8 题。



13. 随着人们消费观念的转变，线上二手买货已成为一件平常的事。据阿里巴巴 2020 财报显示，闲鱼 2020 财年交易金额破 2000 亿元，卖家超 3000 万，人们的消费理念也从“占有”转变为“使用”。二手消费渐渐成为新一代人的生活方式

- ①赋予了闲置物品新的使用价值
- ②表明绿色消费观念逐渐深入人心
- ③能为经济发展提供新的增长点
- ④是居民消费结构升级的主要表现

A. ①② B. ①④ C. ②③ D. ③④

14. 逆回购是指中央银行主动借出资金，向市场上投放流动性的操作。中国人民银行决定，2020 年 10 月 27 日，开展了 1000 亿元 7 天期逆回购操作，利率 2.2% 与上次持平。这一举措产生积极影响的传导路径是

- ①增加货币市场流通规模
- ②推动经济持续健康发展
- ③扩大中央财政支出规模
- ④降低小微企业融资成本

A. ①→②→③ B. ①→③→④ C. ①→④→② D. ④→①→②

15. 边际效用递减规律是指：假定消费者对其他商品的消费数量保持不变，则消费者从该商品连续增加的每一消费单位中所得到的效用增量是递减的。这一规律对我们理解消费者的消费行为，调整生产经营活动非常重要。下列经营行为遵循并利用这一规律的是

- ①某商场举行周年庆庆典，在特殊时段推出全场商品 8 折活动
- ②某企业引进先进制造设备，提高生产能力、扩大生产的规模
- ③某企业坚持“人无我有，人有我优，人优我转”的经营策略
- ④某咖啡店推出“第二杯半价，第三杯免费续杯”的促销活动

A. ①② B. ①④ C. ②③ D. ③④

16. 流量经济下，数据为王。十九届四中全会指出：“健全劳动、资本、土地、知识、技术、管理、数据等生产要素由市场评价贡献，按贡献决定报酬的机制”。确认数据要素参与分配有利于

- ①激发数据要素的活力，推动经济高质量发展
- ②缩小居民之间收入差距，促进社会公平正义
- ③完善基本经济制度，调动数据所有者积极性
- ④完善分配机制，提高数据在再分配中的比重

A. ①② B. ①③ C. ②④ D. ③④

17. 与俗称“铁公基”（铁路、公路、港口、机场、隧道等）的传统基建不同，“新基建”指的是 5G、特高压、人工智能、工业互联网、智慧城市、城际高速铁路和城际轨道交通、大数据中心、新能源汽车充电桩等新型智慧基建。2020 年 9 月，国务院办公厅印发的《关于以新业态新模式引领新型消费加快发展的意见》指出，要加快新型基础设施建设。此举

- ①表明增加投资在经济高质量发展中起决定性作用
- ②主要目的是消化我国钢铁、水泥等行业过剩产能
- ③对劳动力的质量提升和结构优化提出了更高要求

④适应了数字化时代需求，有助于培育经济新动能

- A. ①② B. ①③ C. ②④ D. ③④

18. 提高直接融资比重是我国金融供给侧改革的重点。“直接融资”是指没有金融中介机构介入的资金融通方式。资金盈余单位通过直接与资金需求单位协议，或在金融市场上购买资金需求单位所发行的有价证券，将货币资金提供给需求单位使用。下列措施属于直接融资的是

- ①张先生向银行贷款 100 万元用于货物采购
- ②某上市公司面向市场发行 2000 万股新股票
- ③王某向某基金公司购买了 30 万的基金产品
- ④某企业依法面向市场发行 5000 万企业债券

- A. ①② B. ①④ C. ②④ D. ③④

19. 在全面建成小康社会、进而全面建设社会主义现代化国家的新征程中，我国民营经济只能壮大、不能弱化，不仅不能“离场”，而且要走向更加广阔的舞台。这是因为民营经济

- ①是我国经济制度的内在要素
- ②与公有制在国民经济中作用平等
- ③是社会主义经济的组成部分
- ④与我国现阶段生产力水平相适应

- A. ①② B. ①④ C. ②③ D. ③④

20. 2020 年 7 月 1 日起，我国下调日用消费品进口关税的税目和税率。此次降税涉及 1449 个税目，平均税率由 15.7%降为 6.9%，降税幅度几乎达到一半。本次降税商品涵盖食品、服装鞋帽、家具用品、日杂百货、文体娱乐、家用电子、日化用品、医药健康 8 类日用消费品。降低进口消费品关税

- ①有利于满足国内民众的消费升级需求
- ②能够倒逼国内相关企业加快创新步伐
- ③会减少我国贸易逆差，促进国际收支平衡
- ④是政府运用行政手段调节对外贸易的表现

- A. ①② B. ①③ C. ②③ D. ②④

21. 四川某县 25 个乡镇集中开展乡镇行政区划调整改革后县乡人大代表选举及补选工作。在 22 个村 1 个社区设立了分投票站，并结合工作需要，在山区村和边远村设置了流动票箱。下列对此次人大代表补选说法正确的是

- ①采用由选民直接投票选举的方式进行
- ②由选民选出的代表代表选民进行选举
- ③可以较充分考虑当选者结构的合理性
- ④会给选民行使选举权提供选择的余地

- A. ①③ B. ①④ C. ②③ D. ②④

22. 我国首部《儿童个人信息网络保护规定》指出：任何组织和个人不得制作、发布、传播侵害儿童个人信息安全的信息；网络运营者收集、使用、转移、披露儿童个人信息的，应征得儿童监护人的同意。这一规定

- ①有利于提高儿童的法律地位
- ②体现了国家对儿童各项权利的尊重

- ③有利于保障儿童的合法权益 ④符合公民在法律面前一律平等原则
 A. ①② B. ①④ C. ②③ D. ③④

23. 2020年6月1日起施行的《中华人民共和国基本医疗卫生与健康促进法》是我国医疗卫生领域第一部基础性、综合性的法律，它结束了“发展医疗卫生与健康事业”“保障公民享有基本医疗卫生服务”无法可依的局面。该法的施行有利于

- ①彰显民主的真实性，维护公民基本民主权利
 ②尊重和保护公民健康权，提高公民健康水平
 ③强化公民在基本医疗卫生服务中的主体责任
 ④推动医药卫生改革发展，推进健康中国建设

- A. ①③ B. ①④ C. ②③ D. ②④

24. 字形歧异，确实是战国时期文字发展演化的一个突出问题。一个“马”字，齐有三种写法，楚、燕、三晋各有两种写法。一个“安”字，齐、燕各有两种写法，三晋竟有四种写法。这反映出

- A. 书写材料发生变化 B. 文化的发展具有多样性
 C. 百家争鸣局面出现 D. 政治分裂影响文化整合

25. 曹魏实行九品中正制之初，中正由现任中央职官兼任，须“德充才盛”，经郡国长官推举，报请司徒确认并予以任命。这表明九品中正制

- A. 无法为政府选拔优秀的人才 B. 有利于推动官僚政治的形成
 C. 彻底改变了乡里评议的传统 D. 顺应了加强中央集权的趋势

26. 右图是绘制于盛唐时期的敦煌莫高窟第23窟的壁画《雨中耕作图》。该图主要的史学价值在于



- A. 个体农业的形成
 B. 耕作技术的进步
 C. 农民生活的艰难
 D. 庄园经济的发展

27. 明代士绅等读书人有免除徭役和少缴赋税的特权，许多地主将土地记在士绅名下，1567年仅苏州、松江、常州、镇江四地就曾查出这种寄名土地将近200万亩。这种状况

- A. 有利于科举制度的发展完善 B. 导致明朝调整赋税制度
 C. 表明经济重心南移基本完成 D. 一定程度扼制了土地兼并

28. 甲午战争后，原有洋务企业进行了改制，多数官办、官督商办企业被商办企业所代替，如1896年湖北机器织布局实行股份制改造后，“竟赢余十八万金，除以十五万金还清旧债外，仍余三万金”。由此可知

- A. 清政府面临财政经济困难 B. 清政府逐渐调整了经济政策
 C. 洋务企业最终走向了破产 D. 中国企业开始了股份制尝试

29. 卢沟桥事变发生后，蒋介石提出，红军改编后不设统一的军事指挥机构，

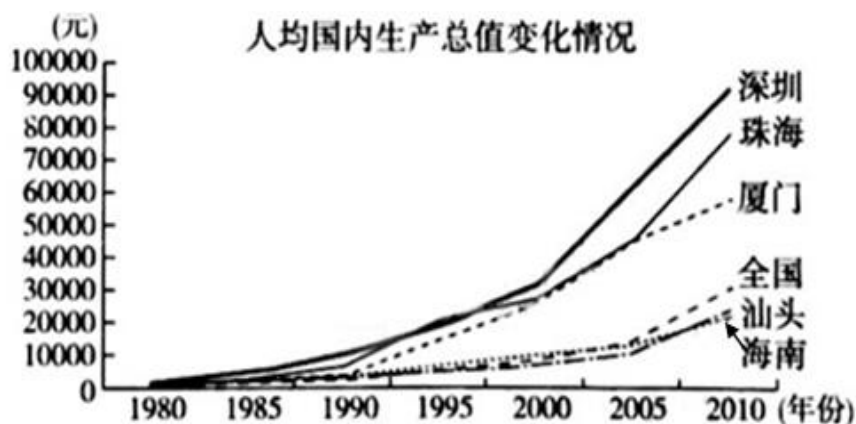
红军可以设置政治机构，专管联络，以周恩来为主任，毛泽东为副主任。蒋介石的这一主张

- A. 促进了抗日民族统一战线的建立
- B. 使国共两党的矛盾得以缓解
- C. 适应了两个战场的战略需要
- D. 意在削弱共产党对其军队的领导

30. 新中国成立前后，各解放区的土改先后完成，广大贫苦群众的生活水平得到提高，但华北农村婚姻家庭纠纷呈井喷式爆发，乃至成为一个严重的社会问题。据此可知，当时中国

- A. 社会变革冲击传统伦理观念
- B. 国内战争影响了家庭稳定
- C. 工业化瓦解了传统婚姻制度
- D. 合作化运动促进妇女解放

31. 读下图，据此可知



1980—2010 年深圳、珠海等城市与全国人均国内生产总值对比变化情况

- A. 经济特区间的发展存在着差异
- B. 经济特区带动了全国的发展
- C. 对外开放与体制改革相辅相成
- D. 对外开放呈现多层次的特点

32. 古代雅典城邦建立初期，执政官从贵族当中选任。到梭伦时期，第一、第二等级的公民都有资格当选执政官。这一变化表明古代雅典

- A. 民主政治的正式形成
- B. 地域代替了血缘关系
- C. 财产等级制度的实施
- D. 公民可直接参与政治

33. 1650 年前后英国引进了茶叶，当时每磅茶叶的价值大约为 10 英镑。一个世纪后，茶叶成为英国人的普通消费品，进入寻常百姓家。这种现象出现的主要原因是

- A. 英国东印度公司等殖民扩张
- B. 英国最早进行了工业革命
- C. 资本主义世界市场的初步形成
- D. 英国与荷兰争夺贸易霸权

34. 苏俄（联）政府在内战结束后，解散了大多数的总管理局，要求各企业按部门组成托拉斯，如南方钢铁托拉斯、顿河煤炭托拉斯等，托拉斯负责管理企业，独立进行经济核算。这表明当时苏俄（联）

- A. 打开了社会主义改革的闸门
- B. 尝试建立美式大企业制度
- C. 承认了市场和商品货币关系
- D. 依靠垄断资本发展重工业

35. 美国国会于 1936 年通过《土壤保持和作物调配法》，规定给土地休耕的农场主休耕补贴，换得他们放弃种植，削减粮食生产。这反映出罗斯福政府
- A. 保护环境以维护生态平衡
B. 以行政手段调控市场
C. 补贴农业以恢复金融信用
D. 以工代赈创造就业岗位

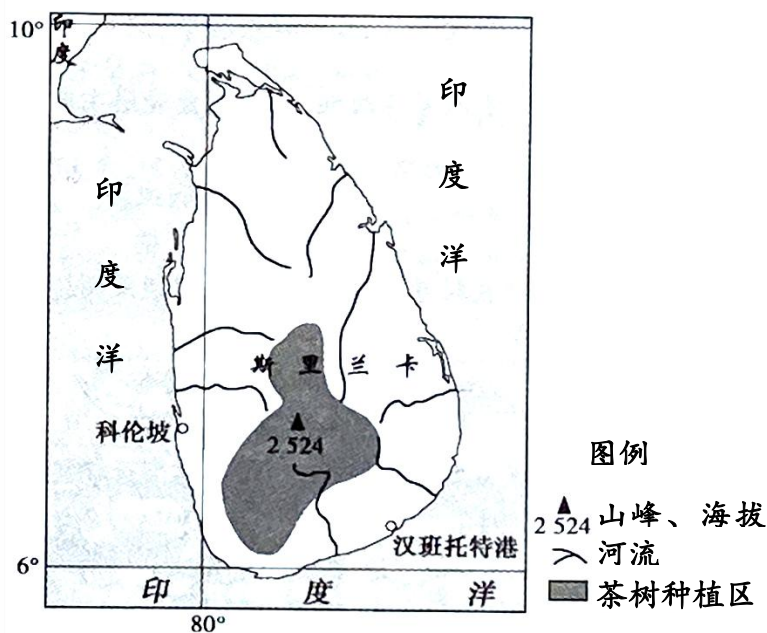
第 II 卷

本卷包括必考题和选考题两部分。第 36~43 题为必考题，每个试题考生都必须作答。第 44~45 题为选考题，考生根据要求作答。

36. 阅读图文材料，完成下列要求。(24 分)

19 世纪 50 年代，斯里兰卡种植园的咖啡树由于锈叶病大批死亡的时候，一个精通汉语的英国植物学家进入武夷山茶区，掌握了红茶制作工艺，并把大量茶苗和茶种、茶师、制茶用具带到了南亚。经过 150 多年的发展，斯里兰卡已成为世界上第二大红茶出口国、第四大红茶生产国，茶产业成为斯里兰卡出口经济的支柱产业。

JONES(今仕)锡兰红茶原料被运送到位于首都科伦坡的集团总部，根据各产区的色泽、风味、香气进行专业调配，还以锡兰红茶为基础，经过各种工艺调配纯天然植物形成了 1000 多种不同口味的红茶，堪称全球最大的口味红茶品牌。2016 年年底，JONES 锡兰红茶被成功引进到中国市场，让中国的消费者享受到这款世界名茶。下图为斯里兰卡茶树分布区示意图。



- (1) 分析斯里兰卡早期种植园由种植咖啡转为茶树的主要因素。(8 分)

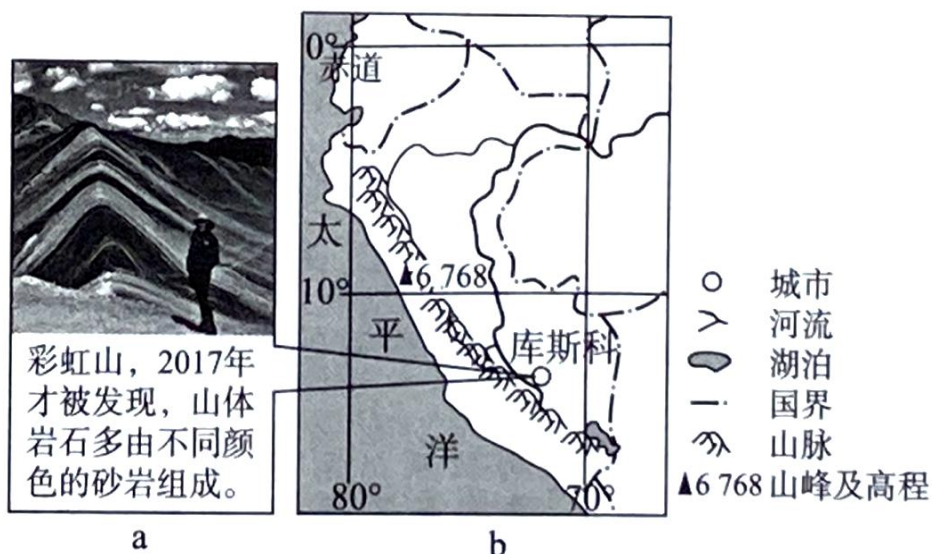
(2) 斯里兰卡茶叶按生长的海拔高度分为高地茶、中段茶和低地茶。说明高地茶茶味浓厚，香气出色，品质更佳的原因。(6分)

(3) 中国是茶叶之乡，名茶众多，说明我国还要引进锡兰红茶的原因。(4分)

(4) 通过 JONES(今仕)锡兰红茶的发展，简述对我国茶产业发展的借鉴意义。(6分)

37. 阅读图文材料，回答下列问题。(22分)

一队登山运动爱好者2020年5月1日从秘鲁古城库斯科(图b)出发，乘车沿崎岖山路近5小时到达威尼坎加国家公园，然后开始徒步登山。沿途景致优美，附近可见高耸的雪山，徒步约10公里后到达海拔5050米的彩虹山(图a)，一名队员站在蓝天白云下享受被“彩虹”包围的感动，且面向正北拍照留念。



(1) 简述彩虹山地貌景观近年来才被人们发现的原因。(8分)

(2) 指出彩虹山的地质构造(背斜、向斜或断层)，并推测该地貌景观的形成过程。(8分)

(3) 判断登山队员拍照时当地的大致时刻，并说明理由。(6分)

38. 阅读材料，完成下列要求。（14分）

国民经济是一个循环系统，主要包括生产、分配、流通、消费四个环节。改革开放以来，我国一度形成了以外循环为主要驱动力的经济增长模式。在新冠疫情蔓延，全球经济下行、国际贸易减少的背景下，发挥国内超大规模市场优势，构建以国内大循环为主体的经济增长模式成为必然的选择。以国内大循环为主、意味着经济活动的四个环节主要在国内完成。在这一体系下，产业链主要由国内配套，原材料主要来自国内，生产加工主要在国内，销售和消费主要在国内。当前我国正加快形成以国内大循环为主体、国内国际双循环相互促进的新发展格局。

结合材料并运用经济知识，分析国内大循环要立足于扩大国内消费需求的理由。

39. 阅读材料，回答问题。（12分）

2020年是深圳经济特区成立40周年。40年来，深圳一直打造最适合民企生长的制度环境，让市场决定资源配置的市场化环境，让法律说话算数的法制化环境，对民企和国企一视同仁的政策环境。深圳明确提出，市级政府部门年度采购预算中，面向民营中小微企业的比例不低于60%。从1980年开始，深圳市政府出让土地的使用权，将土地作为生产资料进行市场化运作，与港商合作建造了新中国第一个商品房小区。除此之外，深圳还通过分配制度改革来打破铁饭碗，鼓励按生产要素分配、股份制试点、企业产权转让、“小政府、大社会”的管理、住房制度改革、对外企实行国民待遇……凭借深圳人“敢闯敢试，先行先试”的勇气，不断创造出“深圳奇迹”：地区生产总值从1980年的2.7亿元增至2019年的2.7万亿元，年均增长20.7%，经济总量位居亚洲城市第五位，财政收入从不足1亿元增加到9424亿元，实现了由一座落后的边陲小镇到具有全球影响力的国际化大都市的历史性跨越。深圳的发展彰显着中国特色社会主义制度的新优势。

结合材料并运用经济知识，分析深圳的发展是如何彰显我国基本经济制度新优势的。

40. 阅读材料，回答下列问题。（26分）

解决好农业农村农民问题是全党工作重中之重。

材料一 目前我国粮食总产约为4.6亿吨，人均粮食370公斤，基本解决了14亿人口的吃饭问题，有些地方甚至出现了粮食“卖难”的现象，但优质玉米、小麦等仍需要大量进口；农民反映，现在农药化肥、种子等农资价格不断上涨，而粮食等农产品价格却上不去，影响了农民的种粮积极性；城镇化

加快推进，建设用地不断蚕食耕地面积，有的地方还造成了较严重的水体和土壤污染。个别地方政府忽视粮食生产、放松粮食安全的麻痹思想，也给粮食安全蒙上阴影。为此，必须树立科学的粮食安全观，要以可持续发展为原则，增强高效协同的粮食安全保障能力；要坚持质量第一、效益优先，以供给侧结构性改革为主线，提升粮食产业的质量和效益；在产业发展路径上，要加强粮食科技创新，开发引领市场需求的新产品，围绕产业链布局创新链。

(1) 结合材料和所学经济知识，分析当前我国粮食生产存在的突出问题，并就如何解决粮食安全提出合理化建议。(14分)

材料二 《中共中央关于实施乡村振兴战略的意见》的要求，不断深化村民自治实践，“坚持自治为基，加强农村群众性自治组织建设，健全和创新村党组织领导的充满活力的村民自治机制”。某地在乡村社会治理过程中，制定完善村规民约，围绕“勤俭节约、环境整治、生态保护、文明创建”四个方面的重要内容，让村民“既当村规民约的制定者，又当村规民约的执行人”。建立健全村民会议、村民代表会议、村民议事会、村民理事会、村民监事会等组织，让村民自己“说事、议事、主事”。加强乡村法治宣传教育，完善农村法律服务，引导村民依法表达诉求、解决纠纷、维护权益。大力开展星级文明户、五好家庭等创建活动，教育引导村民爱党爱国，向上向善，孝老爱亲，重义守信，勤俭持家。培育和发展社会组织，开展社会志愿服务、救助困难群众、帮教特殊人群等活动。

(2) 结合材料，运用基层群众自治的知识，说明该地是如何加强乡村社会治理的。(12分)

41. 阅读材料，完成下列要求。(25分)

材料一 19世纪80年代后，美国要求向外扩张的呼声甚嚣尘上，鼓吹扩张的“理论”应运而生。19世纪末美国海军少将阿尔弗雷德·塞耶·马汉提出了“海权论”。马汉认为：谁能控制海洋谁就能够在海上贸易中占主动，控制的程度决定着繁荣的程度。海权的掌握有赖于一支强大的海军。马汉还认为，一个国家的海上力量要确保本国商船在世界各地自由贸易，或在利益发生冲突时摧毁对方海上力量，就必须在适当地点建立海军基地：要么依赖军事力量直接控制那些军事要冲；要么建立自己的殖民地——这是宗主国在海外支撑其海上权力的最可靠手段。

——摘编自李仲元《马汉的海权理论述评》

(1) 根据材料一并结合所学知识，概括马汉的海权思想并分析其形成的背景。(10分)

材料二 伟大的民主革命家孙中山是海权论的热忱信奉者。他认为：“自世界大势变迁，国力之盛衰强弱，常在海而不在陆，其海上权力优胜者，其国力常占优胜。”因此中华民国成立后，孙中山把海军建设列为国防之首要，认为中国必须“兴船政以扩海军”，这样才能御外侮，保障国家独立、民族生存，成为世界上一等强国。不仅如此，孙中山认为海洋中蕴藏着取之不尽的财富，积极主张向海洋求生存、求发展。孙中山还对太平洋和海南岛表示出了极大的关心，认为一战结束后，“争太平洋之海权，即争中国之门户权耳，谁握此门户，则有此堂奥，有此宝藏也”。至于海南岛，是南洋的门户，必须设省筑港，牢牢把握住制海权。

——摘编自孙立新、赵光强《中国海洋观的历史变迁》

(2) 根据材料二并结合所学知识，概括孙中山的海权思想并简要评价。(15分)

42. 阅读材料，完成下列要求。(12分)

材料 人类文明的存在和发展具有一般的基本规律。犹如一个有机体，每个文明都会经历起源、成长、衰落和解体四个阶段。文明兴衰的基本原因是挑战和应战。一个文明，如果能够成功地应对挑战，那么它就会诞生和成长起来；反之，如果不能成功地应对挑战，那么它就会走向衰落和解体。

——摘自阿诺德·汤因比《历史研究》

根据材料并结合所学知识，评析汤因比关于“挑战——应战”的观点。(要求：对该观点赞成、反对或另有观点均可，论述观点明确，史论结合)

43. [旅游地理] (10分)

景德镇市是首批国家历史文化名城和中外闻名的“瓷都”，陶瓷工业一直是城市发展的主导产业。随着瓷土资源日渐枯竭，景德镇市于2009年被确定为第二批资源枯竭型城市。资源枯竭城市的确立给景德镇城市转型带来新的契机。依托千年陶瓷文化底蕴，景德镇正在转型为一个集旅游、陶瓷、航空、汽车等产业为一体的旅游型城市。

设计景德镇陶瓷文化旅游项目。

44. (15分)【历史——选修1：历史上重大改革回眸】

材料 中国近代、也是有史以来的第一部国籍法，是1909年由清廷颁布施行的《国籍条例》。1908年，荷兰殖民者强迫荷属爪哇华侨加入荷兰籍，广大爱国华侨集会商讨抵制办法。办法之一，就是请清王朝及早制定国籍法，以确定华侨国籍。加之东北边疆的朝鲜移民因为国籍问题成为日本侵略中国东北

的尖兵，国家的领土主权受到巨大威胁。为此，清政府于 1909 年颁布施行《大清国籍条例》。该条例采用了以血统主义为主而辅之以出生地主义的折衷办法。这种以血统主义为主的合并制度意味着大量华侨将成为法律上的中国公民，清政府理所当然的具有保护海外侨民的权利，而荷兰殖民者将失去对华侨的控制。同时东北的朝鲜移民也得以加入中国国籍，成为清朝的国民，不再受日本帝国主义的利用与盘剥。1929 年，南京国民政府《国籍法施行条例》仍然采用血统主义和出生地主义结合的原则。国民党败退台湾后，对国籍法进行了修改，但基本原则和内容并无多大变化。

——摘编自刘训智《近代中国国籍法的发展与演变》

(1) 根据材料并结合所学知识，概括晚清国籍法制订的历史背景。(6 分)

(2) 根据材料并结合所学知识，概括清政府国籍法制订的影响。(9 分)

45. (15 分)【历史——选修 4：中外历史人物评说】

材料 中世纪的学者把政治学和道德、神学密切结合起来，认为国家是适应人的社会天性要求的产物。而人和人的天性是上帝创造的，所以上帝才是国家和政治权威的创造者和主宰。

马基雅维利 1469 年出生于佛罗伦萨，七岁入学，曾在佛罗伦萨大学受到人文主义学者的古典文学的训练。马基雅维利参与了当时意大利各城邦之间的战争，虽然自己喜爱共和政体，但深感只有君主专制才能统一和拯救当时的意大利。他的《君主论》不再从《圣经》和上帝出发，而是从人性出发，将政治和伦理区分开，认为人与人之间经常为追求权利和财富发生激烈斗争，为防止人类无休止的争斗，国家应运而生。书中提到：“为了达到一个最高尚的目的，可以使用最卑鄙的手段”。

在人类思想史上，还从来没有哪部著作像《君主论》这样，一面受着无情的诋毁和禁忌，另一面却获得了空前的声誉。他对人性的假设无法容于基督教文化下的社会，但在他所开启的“人造国家”的理念由霍布斯系统化之后，开创出了近代的政治理论的新篇章。

——摘编自毛里齐奥·维罗利《马基雅维利传》

(1) 根据材料并结合所学知识，概括马基雅维利《君主论》问世的背景。(6 分)

(2) 根据材料并结合所学知识，评价马基雅维利的《君主论》。(9 分)