

黄冈市 2020 年高三年级 9 月质量检测

历史试题

2020 年 9 月 24 日上午 8:00 ~ 9:30

黄冈市教育科学研究院命制

本试题卷全卷满分 100 分, 考试用时 90 分钟。

注意事项:

1. 答卷前, 考生务必将自己的姓名、考生号等填写在答题卡和试卷指定位置。

2. 回答选择题时, 选出每小题答案后, 用铅笔把答题卡上对应题目的答案标号涂黑。如需改动, 用橡皮擦干净后, 再选涂其他答案标号。回答非选择题时, 将答案写在答题卡上。写在本试卷上无效。

3. 考试结束后, 将本试卷和答题卡一并交回。

一、选择题: 本题共 15 小题, 每小题 3 分, 共 45 分。每小题只有一个选项符合题目要求。

1. 西周时期, 强调“礼不下庶人, 刑不上大夫”, 但却少见系统化的有关礼乐的成文条例; 春秋战国各诸侯国纷纷变法, 魏国李悝、秦国商鞅等先后出台一系列成文法令对各阶层的行为进行明确界定和规范。这些法令的出台

- A. 弱化了统治阶层的权力
- B. 体现了儒法合流的趋势
- C. 提高了平民参政的热情
- D. 削弱了世袭贵族的实力

2. 西汉初期, 各郡国举孝廉均为 1 人。东汉时期进行改革, 以户口为例, 一般州郡每 20 万口得举 1 人, 但边境州郡却例外, 每 10 万口即可岁举 1 人, 这一举措

- A. 造成了地区间政治力量失衡
- B. 有利于增强中央政府向心力
- C. 利于促使官员注重人口增殖
- D. 鼓励了官员到边远地区任职

3. 某中学历史兴趣小组在研究唐都长安时, 绘制了两幅长安城在安史之乱前后变化的示意图, 下列有关图 1 图 2 的分析正确的是

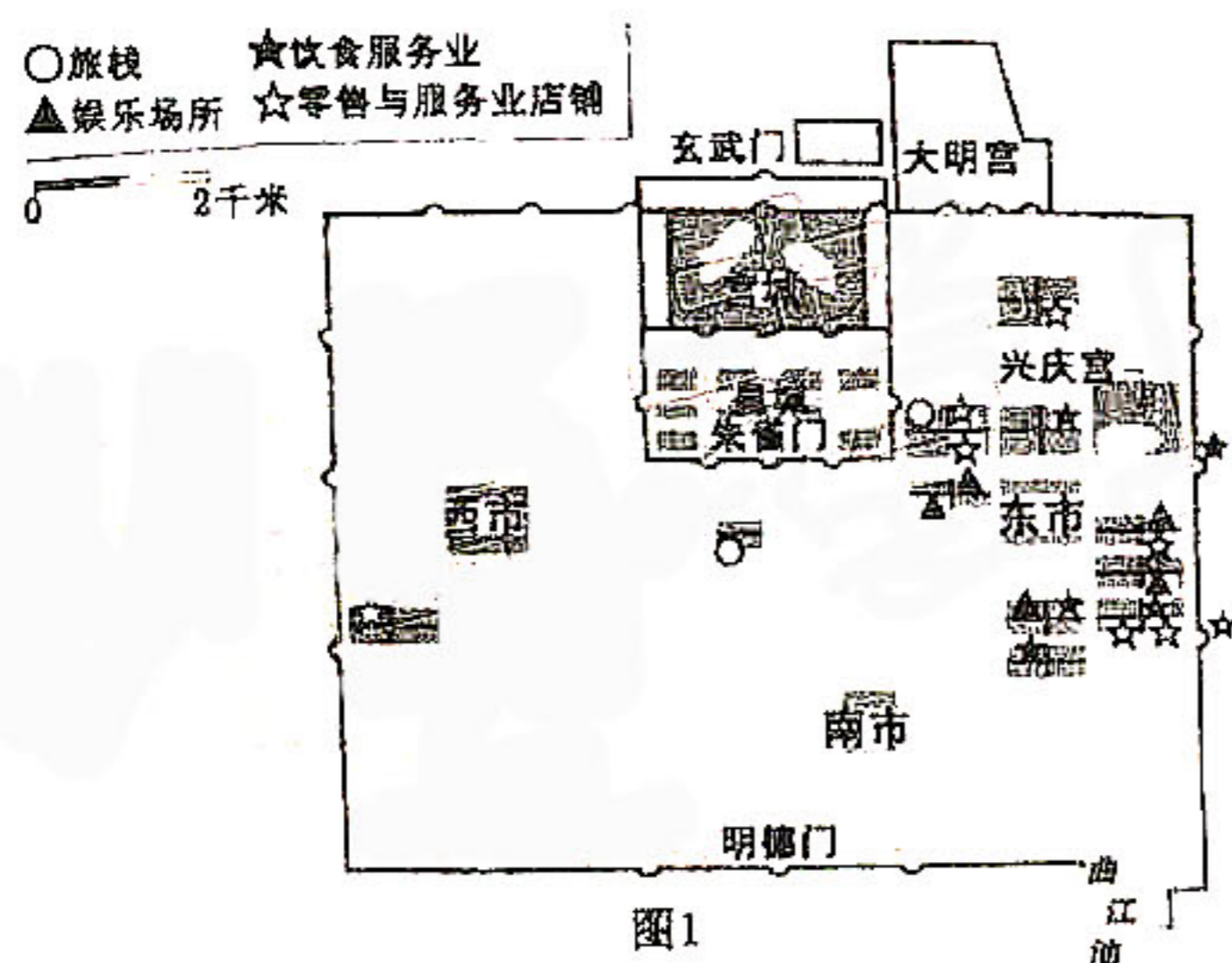


图1

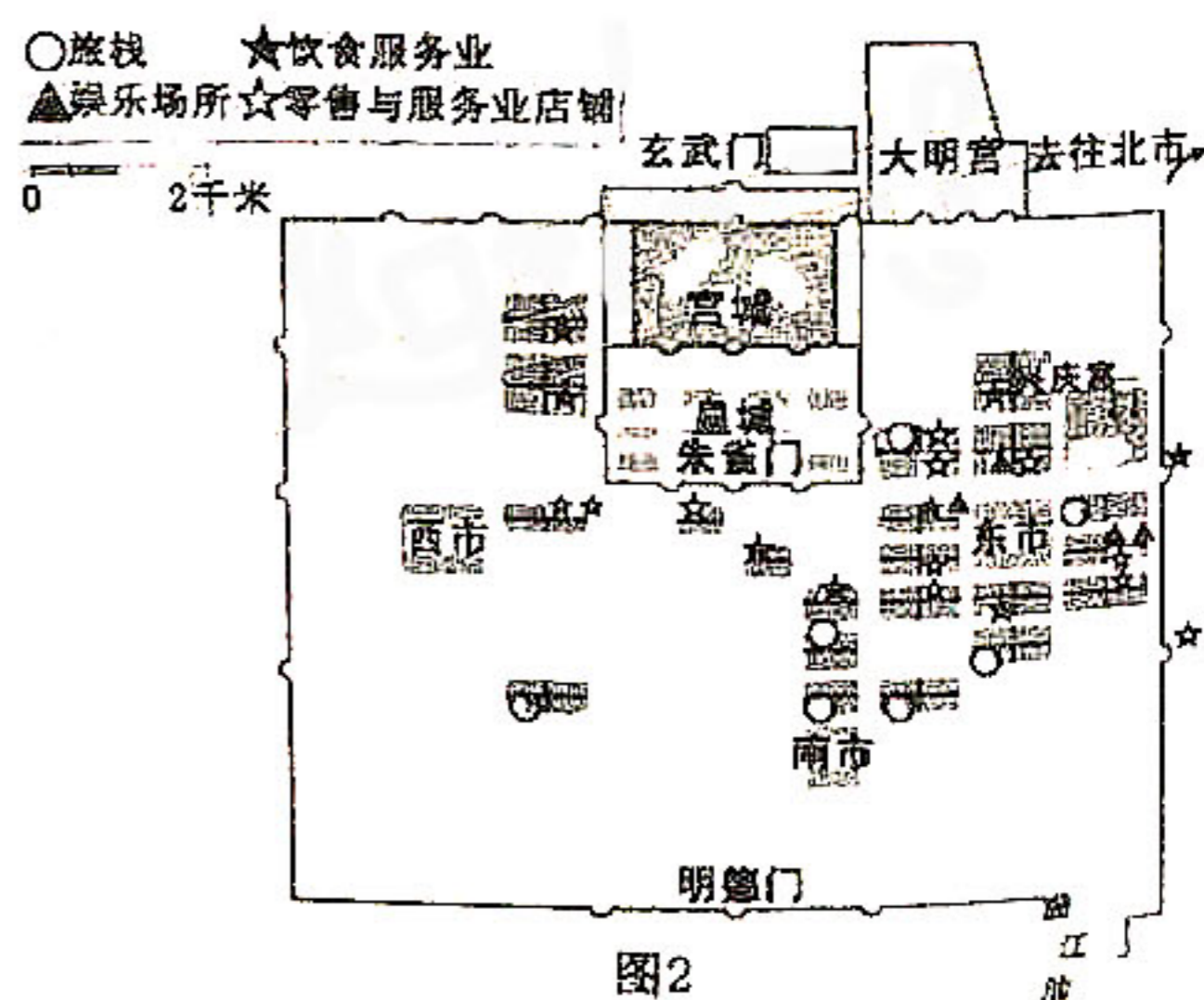


图2

- A. 图 1 市场繁荣, 但仍受较严格的时空限制, 应为安史之乱前
- B. 图 2 律令松弛, 市场时空限制被完全突破, 故是安史之乱后

- C. 通过比较两幅图,可知唐代安史之乱后长安城商业迅速凋零
D. 因为唐朝一直对市实行严格的时空限制,故两幅图均有错误
4. 北宋《宋刑统》规定,除极少特殊情况外,凡田宅、婚姻、债务之类的民事诉讼,必须在每年十月一日以后才能起诉,次年正月三十日停止受理;南宋时期,因南方气候与北方不同,对起诉时间又做了相应调整,缩短了受理时间。这些规定
- A. 有效地防止了案件积压
B. 体现了儒学息讼贱讼理念
C. 意在维护农业生产稳定
D. 适应了商品经济发展需要
5. 黄宗羲在《田制》等书中提出,要允许“富民”运用经济手段购置土地和垦荒占有土地;国家对“富民”的土地,既不能“均田”,也不要“限田”。他的这一主张
- A. 极大地助长了明清之际的土地兼并现象
B. 有效地缓解了明清时期的人地矛盾问题
C. 意在是古非今,以肯定宋代来否定清朝
D. 肯定财产私有,是商品经济发展产物
6. 恭亲王奕訢在主政总理衙门时,把与外国交涉的“夷务”改为“洋务”。之后与欧洲有关的新鲜事物都被统称为“洋务”,而管理这些事物的汉族官僚们也被人们称作洋务派。这一现象的出现
- A. 加深了清朝外交机构的半殖民地化
B. 标志着向西方学习被社会普遍接受
C. 一定程度上有利于中西文化的交流
D. 标志着清末洋务运动的大规模开始

表 1

7. 表 1 是 1898 年 11 月前列强在中国争得的铁路投资修筑权里程统计表。其中③最有可能是

国名	在中国投资的铁路
①	2 800 英里
②	1 530 英里
③	420 英里
④	300 英里

- A. 英国
B. 俄国
C. 法国
D. 美国

8. 图 3 是 1919 年 12 月,在经历了“问题与主义之争”及《每周评论》的创办和被查禁之后,《新青年》第一次(也是最后一次)发表的“全体社员的公共意见”内容摘录。这反映出此时知识界

我们相信世界上的军国主义和金力主义已经造了无穷罪恶,现在是应该抛弃了……我们主张的是民众运动、社会改造……真正的民主政治,必会把政权分配到人民全体……尊重自然科学实验哲学,破除迷信妄想,是我们现在社会进化的必要条件

图 3

- A. 试图在思想上寻求重新聚合的可能
B. 已普遍接受了马克思主义
C. 均认识到发动群众进行革命的重要
D. 因反国民党独裁形成共识

9. 图4是中国近代某战争的形势示意图。这

形势的到来和结束,使得

- A. 抗日民族统一战线正式形成
- B. 国民党政府的统治宣告结束
- C. 中共着手调整党的工作重心
- D. 日本被迫暂时调整侵华策略

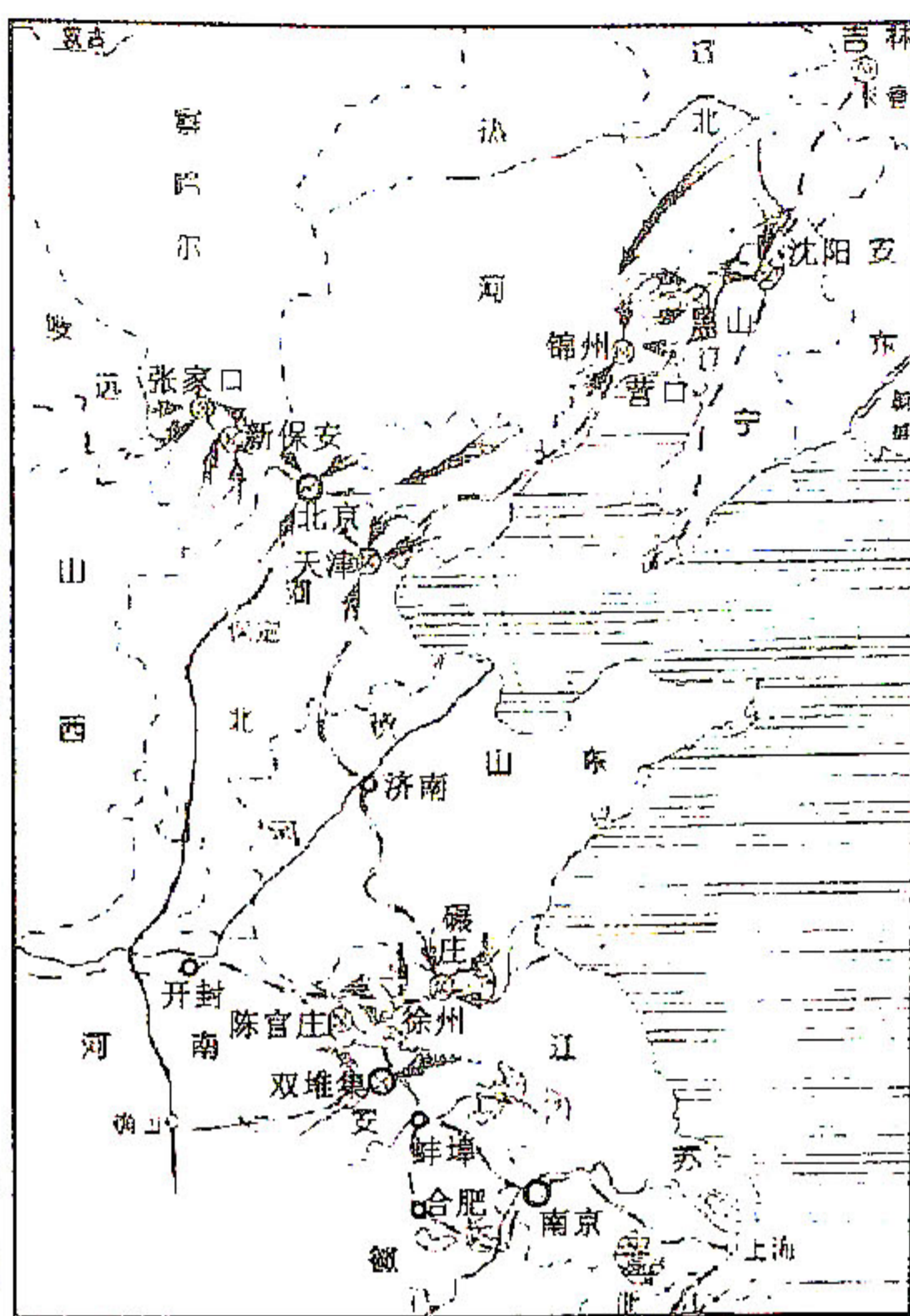


图4

10. 智者学派认为,一切都可以因时、因地、因人而异,没有不变的道理,一切被人们奉为规矩的常理都可以在辩论中推翻。这一言论的提出

- A. 具有相对主义和辩证法的特征
- B. 导致雅典民主制弊端日益显现
- C. 挑战了神灵和城邦至上的权威
- D. 为民主改革提供一定舆论氛围

11. 16世纪英国议会在制定国家政策时,很容易让人感到“上议院比主要由中产阶级组成的下议院更加同情穷人”这一显著特征。这一现象的出现,是由于

- A. 资产阶级和无产阶级矛盾的激化
- B. 适应了资本原始积累的某些需要
- C. “优胜劣汰”进化论思想的异化
- D. 两院之间开始形成有效制衡机制

12. 《德意志帝国宪法》内容(节选):“第五条 帝国立法权由联邦议会和帝国议会行使之。帝国法律应取得两个议会必要的和充分的多数的同意。第六条 联邦议会由联邦成员代表组成,联邦成员代表由各邦自主任命获推选。……第三十二条 帝国议会议员,就其议员职位而论,不得领取任何薪俸或报酬。”这反映了德意志帝国

- A. 实现了权力的有效制约与平衡
- B. 容克贵族是国家主导力量
- C. 君主专制获宪法的强化与认可
- D. 议会民主开始受宪法保障

13. 很快,与经济出现速度惊人恢复的同时,被新政策所允许存在的小企业主和富农的数量也明显上升了……于是,俄国共产党内部对待新经济政策出现了泾渭分明的两种态度。这表明

- A. 苏俄未形成如何建设社会主义的共识
- B. 新经济政策因贫富分化引发普遍不满
- C. 新经济政策存在偏离社会主义的可能
- D. 新经济政策推动了资本主义经济发展

14. 1941年,意大利反法西斯学者斯皮内利发表《文托泰内》宣言,号召建立一个由关心全欧洲人共同利益的主权国家改造的“欧洲联邦”,并与各国反抗组织广泛接触,受到广泛关注。这其中之一是因为

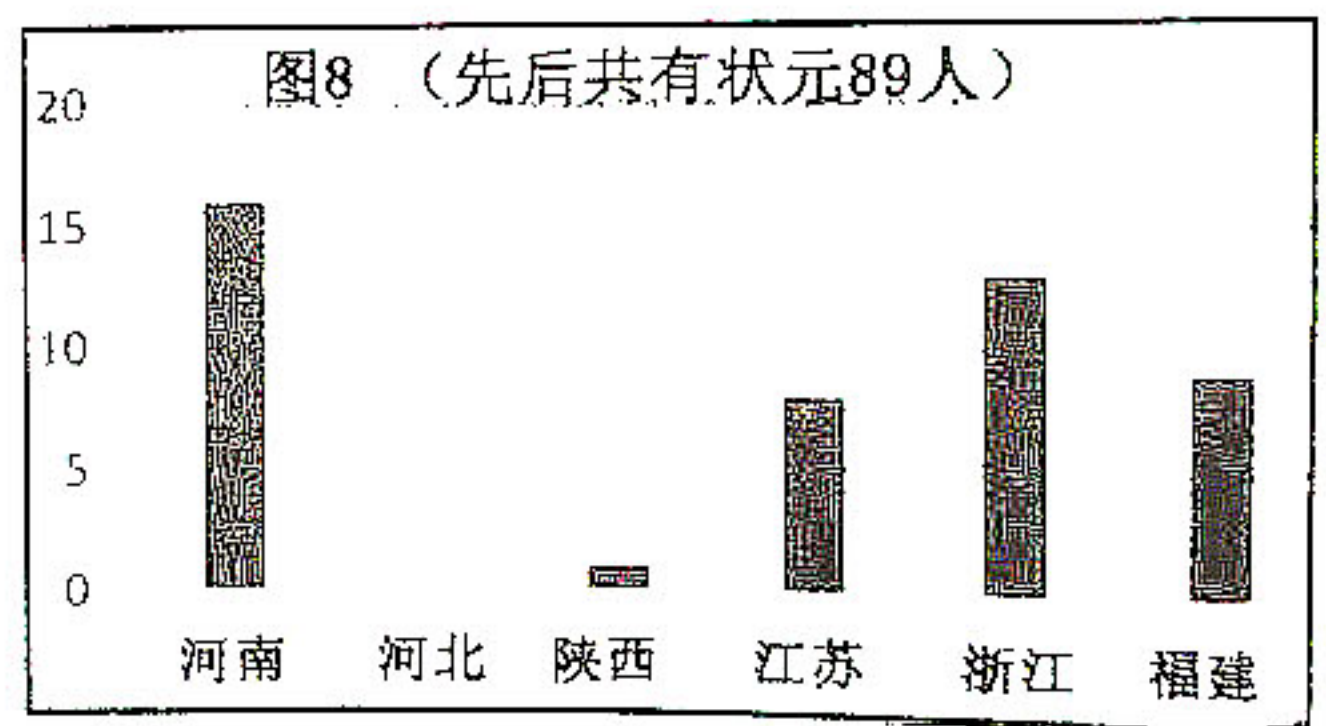
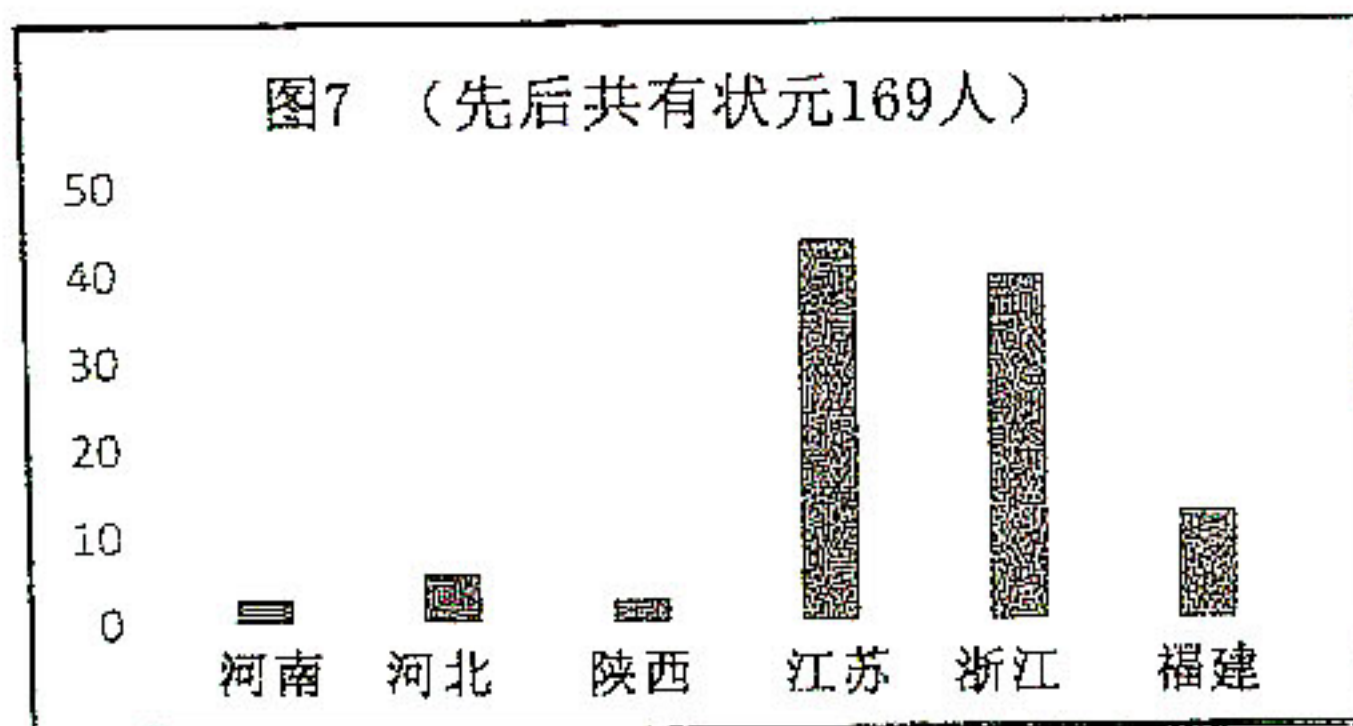
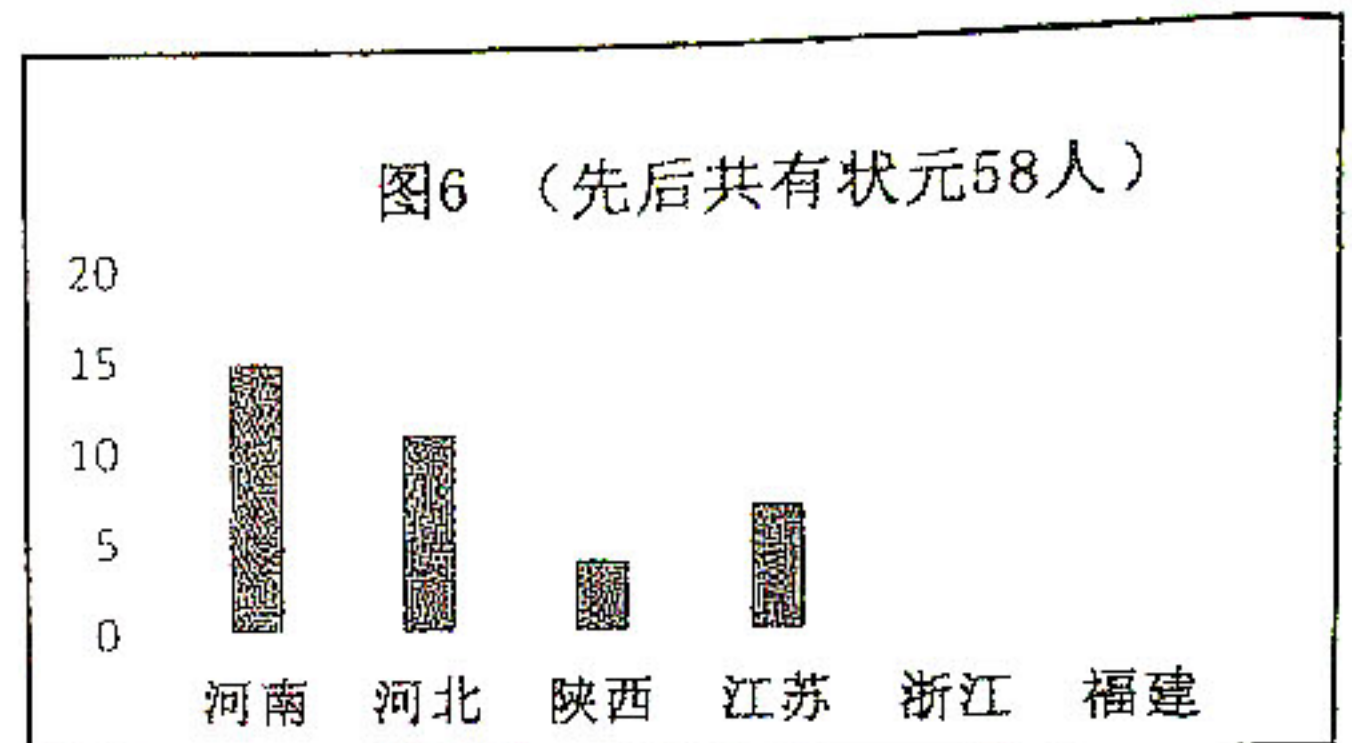
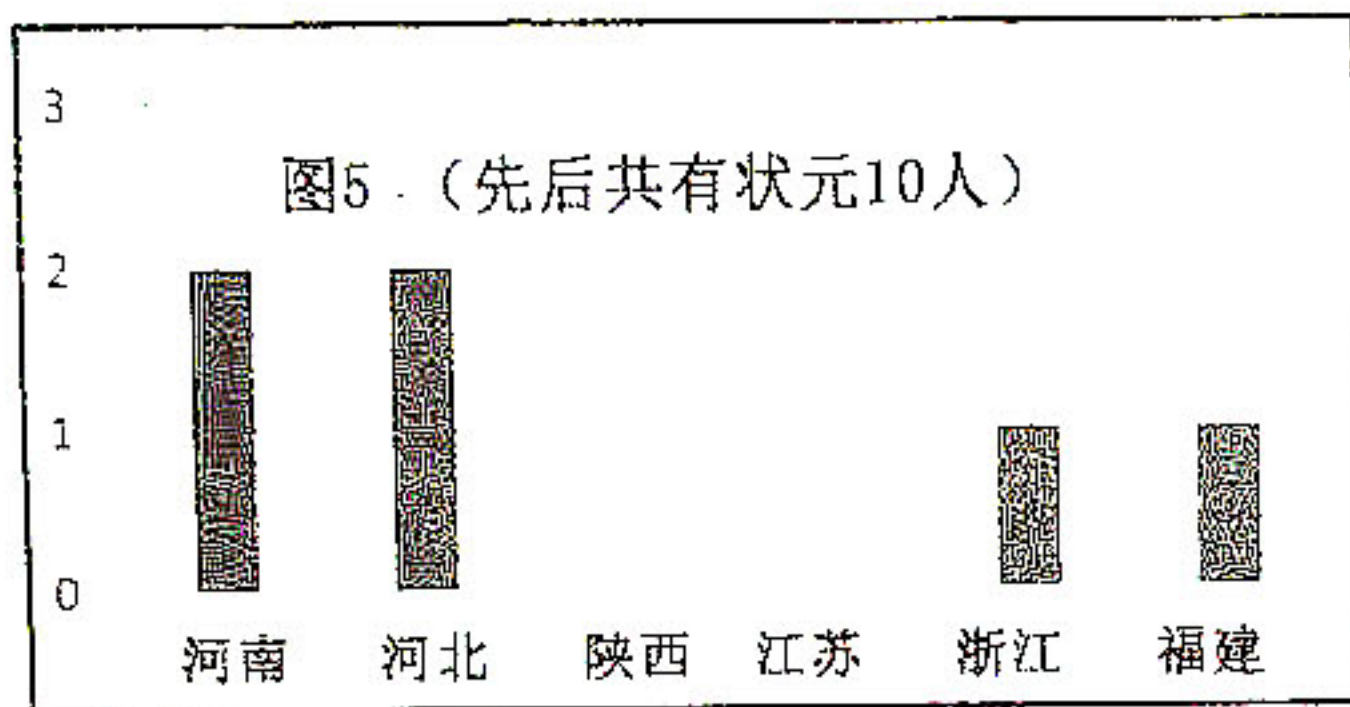
- A. 战后欧洲唯有联合才能抗衡美苏
- B. 联邦体制因美国崛起而广受关注
- C. 反战日益成为欧洲人民共同心声
- D. 欧洲拥有共同的文化和价值观念

15. 1957年苏联第一颗人造卫星上天,举世震惊。有意思的是,苏联公布了卫星搭载的两个发射器的接收频率,其中之一发射器接收频率与美国 WWV 广播授时台所发出的强大频率基本一致,同为 20 MHz 信号。苏联此举

- A. 刺激美国新一轮技术的革新和发展 B. 表明意识形态是美苏争霸的关键
C. 说明此时的美苏争霸苏联处于攻势 D. 意味着美苏争霸开始进入新领域

二、非选择题:本题共 4 小题,共 55 分。

16. (14 分)据史书记载,从隋朝大业元年(605)的进士科算起,到光绪三十一年(1905)正式废除,科举制整整绵延存在了 1300 周年,在国内外有着广泛而深远的影响。图 5、图 6、图 7、图 8 是中国古代四个历史时期(唐代、两宋、元代、明清)的科举状元籍贯统计部分摘录表。阅读材料,回答问题。



——据网易网络资料整理

分别提取图 5、图 6、图 7、图 8 的科举状元籍贯分布等信息,并据此说明与其相对应的历史时期。(14 分)

17. (14 分)1932 年 2 月,美国学者费正清来到中国,师从时任清华大学教授的蒋廷黻并进行中国传统文化研究,1933—1946 年,费正清曾多次到中国进行了较长时间的生活与工作。20 世纪 60 代,费正清提出“中国社会长期以来基本上处于停滞状态,循环往复,缺乏内部动力突破传统框架,只有经过 19 世纪中叶西方冲击之后,才发生剧变,向近代社会演变”的“冲击反应”模式假说,影响广泛。

材料一

蒋廷黻的“现代化叙事”模式并不复杂,他认为,中国在过去或许确实有着自己漫长的历史传统,但是到了近代,中国错过了工业革命,错过了启蒙运动,中国不是近代世界规则的制定者,只是世界一体化过程中的迟到者,因而中国在发展过程中不是要挑战世界已有

规则,更不能对这些规则采取非理性冲撞,或鲁莽颠覆式的摧毁,而是应该引导国民尽快接受,尽快适应这些规则,尽快让中国和世界一样,和其他民族国家一起发展,共同进步。

——摘编自马勇《中国能现代化吗》

材料二 近代中国的一些重大事件及反应。

鸦片战争,中国割地赔款。	1842年南京条约,虽然战败而无意改革,对不平等条约的反应较少。
英法联军入侵北京。	1861-1894年洋务运动。中学为体,西学为用,保卫传统体制,已在造船、制炮等方面学习西方。
甲午战争,中日双方维新与守旧区别明显。	1898年百日维新,主张君主立宪,创制新法律,编制预算,改革教育。
八国联军侵华,清政府弱点彻底暴露。	1911年辛亥革命,否定两千年来的专制制度。
凡尔赛和约,中国主权遭受践踏。	1919年五四运动,知识分子着手文化与思想革命。

根据材料,结合所学知识,谈谈你对费正清的“冲击反应”模式假说的理解。(14分)(要求:观点正确,史实充分,史论结合,逻辑清晰)

18. (12分) 阅读材料,回答问题。

一个家庭的四十年:改革开放的亲历与见证

(刘昕是我市某中学的一位学生,以下是其在2018年暑假参加社会实践活动(《口述史:见证改革开放四十周年》)中,对其爷爷进行采访的部分记录。口述者:刘昕爷爷,1954年出生,职业农民;口述时间:2018年8月23日;口述地点:我市某村家中)

问:您现在对1978年还有哪些印象?

答:一个还是穷和饿,当时我们这里还是公社管所有,没有积极性;再加上全部是人工,没有农药化肥……第二个是你三爷爷那一年通过高考,上大学去了。

问:什么时候您不再感受到饿?

答:1982年之后……分田单干了,就没有挨过饿……新的村委会成立,我当时还被推选为村民小组长……当时某某家的日子是最好过的,他们家率先买了一辆手扶拖拉机,以靠帮各家各户拖运谷物等工作换取报酬……

问:担任村民小组组长期间,您做了哪些事,开展了什么印象较深的活动?

答:一是响应上级号召,开展“致富户”等评比活动,树立致富典型……二是带领几个人到湖区贩鱼卖……

问:当时最大的困难是什么?解决了吗?

答:大家都担心做买卖就是走资本主义路线,害怕可能会被批斗……九二年,村委干部多次召开党员和村民大会传达“南方讲话”和中央会议精神,鼓励做小生意……在农村做小买卖的人逐渐更多起来了……

问:90年代后有哪些重大事件是您印象较深的?

答:九三年你大伯18岁职校毕业,和他同学一起去深圳创业,说是叫“下海”;后来,你三爷爷所在的国企破产,他也下岗了,下岗后去了你大伯那里。

——据某中学学生刘昕的记录整理

……

提取材料信息,说明上述材料对于研究20世纪八十至九十年代的我国改革开放事业有哪些史料价值。

19. (15分)《泰晤士报》(The Times)是英国的一张综合性全国发行的日报,她的诞生与发展历程,既是一部近代传媒发展史,也是一部社会发展史。阅读材料,回答问题。

材料

《泰晤士报》诞生于1785年元旦,创始人是曾经因诽谤罪而入狱16个月的约翰·沃尔特。《泰晤士报》最先将新闻视角延伸至英国之外的其他欧洲国家,尤其是法国。这为《泰晤士报》在政界和金融界内赢得了很高的声誉。与此同时,报纸发行量十分可观,这也使得当时该报的记者、编辑和专栏作家的收入非常可观。

1803年沃尔特儿子小沃尔特接手《泰晤士报》,他除了坚持不再接受政府补贴外,在技术等多个领域进行了全面改革……到1847年小沃尔特去世时,《泰晤士报》的发行量超过了伦敦其他大报发行量的总和。

第三任发行人约翰·沃尔特任职后,以《每日电讯报》和《每日邮报》为代表的“便士报”,对《泰晤士报》的生存和发展形成了巨大威胁……终于在1908年,拥有《每日邮报》和《每日镜报》等多家报业的北岩报团取得了《泰晤士报》所有权,并加以革新,使之重有起色。

……

1966年,《泰晤士报》出售给了大出版商罗伊·汤姆森。也正是在这一年,《泰晤士报》开始在报纸的第一版刊登新闻报道(在此之前,《泰晤士报》的第一版一般主要刊登小型的奢侈品广告,对象为英国的富人阶级)。这时的《泰晤士报》已经不堪重负。

1981年,从澳大利亚办一份小报起家,后控制澳大利亚、英国、美国等国家的多家报刊、电台的新闻巨头鲁伯特·默多克以1200万英镑收购了《泰晤士报》。随后进行改革,主要包括对新的采访和传播技术的采用以及引入了更加高效的管理系统,采用当时电脑排版和激光照排印刷技术……社会新闻、体育、音乐和文学等内容也明显增加,目的在于适应青少年读者阅读习惯的变化,吸引更多的年轻读者。

——据百度词条信息整理

(1) 结合19世纪前半叶英国社会及世界形势的发展潮流,猜想一下《泰晤士报》第二任发行人小沃尔特可能进行了哪些革新,使得该报发行量剧增。(9分)

(2) 结合《泰晤士报》的发展历程,说明《泰晤士报》也是一部“社会发展史”。(6分)

黄冈市 2020 年 9 月高三年级质量检测

历史试题参考答案及评分细则

一、选择题

1D、解析：西周礼乐文化繁荣，但少见系统化礼乐成文条例，保障了西周贵族特权地位和力量的强大；至春秋战国时期，各国出台成文法令明确规范各阶层行为，一定程度上削弱了贵族特权和实力，有利于增强中央集权，故 D 项正确。

2B、解析：东汉察举制对不同区域实行差异化推选办法，一方面使得人口稠密地区有更多优秀人才进入中央，另一方面又试图确保边境州郡特别是人口相对较少的边境州郡人才也有进入中央为官的机会，增强了各地人才向中央政府聚集的动力，进而增强政府向心力，故选 B；此题 D 项为干扰项，察举制是选拔人才的制度，不是改善地方官员地位和待遇的制度，故 D 项错误。

3A、解析：据所学知识可知，唐代商业繁荣，逐渐出现了夜市等试图突破时空限制的现象，但总体而言政府对市仍有严格的时空限制，故图一为安史之乱前、图二反映了安史之乱后的长安，故选 A。

4C、解析：两宋时期对有可能影响农业生产的诉讼进行受理，但进行了较严格的时间限制，且尽可能选择冬季，以避免农忙时间，故选 C。

5D、解析：据材料可知，黄宗羲注重对富民通过购买或垦荒等合法手段获得的土地所有权进行保护，实质是肯定财产私有权，是明清商品经济的产物，故选 D。

6C、解析：从“夷务”改为“洋务”反映的是中国人对西方事物态度由鄙夷到逐渐中立乃至认可的态度，因而有利于当时中西双方的交流，故选 C。

7C、解析：结合近代列强的侵华史，特别是甲午战争时期列强掀起瓜分中国狂潮的相关知识可知：英国在中国拥有最大的势力范围、其次是俄国，而美国此时刚取得美西战争胜利尚没有机会参与瓜分中国狂潮的机会，且综合实力由不及英、法等老牌殖民国家，所以应该最少，通过排除可知 C 项正确。

8A、解析：材料显示这是以“全体社员的公共意见”的名义发表的文章，而文章内容又主要只是宣传民主、科学等马克思主义者和改良派都认可的思想，结合 1919 年新文化运动事实上已经分裂的现实可知，此次文章应该是新文化运动阵营内部在遭到北洋政府打压的背景下试图重新凝聚思想共识的尝试，故选 A。

9C、解析：沈阳、北平、徐州等地名可知，这一地图反映的是三大战役的形势图，故可选 C。

10D、解析：智者学派反对权威，认为一切都可变更，在一定程度上为改革提供了舆论环境，故选 D。

11B、解析：16 世纪英国尚处于资本原始积累阶段，资产阶级对待穷人实行残酷的剥削和压榨政策正是这一时期资本主义发展的特征之一，故选 B。

12B、解析：材料显示德意志法律需要两个议会的多数同意，但两个议会议员产生和待遇又决定了容克贵族更有可能成为议员，故容克贵族是掌握国家政权主要力量，故选 B。

13A、解析：新经济政策实施的过程中，虽然苏俄（联）的经济不断恢复，但在苏共党内仍存在对它的赞美和否定的两种声音，展示在苏俄（联）在进行社会主义建设中是在不断探索，也面临着不少争议和困难，故选 A。

14C、解析：结合时间 1941 年欧洲的政治形势和该学者的身份，即可得出 C。

15A、解析：材料只强调了苏联发射第一颗人造卫星上天，并有意地让美国人通过广播得知这一信息，并未告知广播播放何种内容，结合美苏争霸的相关知识即可选 A。

二、非选择题

16. 图 5：科举录取人数最少，南方录取人数少但又占有一定比例。这与元代统治时间较短，科举一度停考，歧视“南人”，但经济重心和教育重心早已南移的状况吻合。故图 5 为元代。（3 分）

图 6：录取总人数不多，且主要集中在北方省份。这与唐代科举制初创，政治、经济、文化重心均在北方的状况吻合。故图 6 为唐朝。（3 分）

图 7：录取人数最多，且主要集中在南方。这与明清科举制达致鼎盛，经济重心南移的进一步发展，南方文化进一步繁盛的状况吻合。故图 7 为明清。（3 分）

图 8：录取总人数显著增加，在分布上：北方省份河南录取人数高居榜首，南方录取人数明显增加，尤其是浙江高居南方各省榜首。这与两宋重视文官，科举制进一步完善；北宋时经济重心尚未完成南移，河南开封又是北宋都城和政治中心；南宋以后经济重心南移完成，都城迁至杭州城等状态吻合。故图 8 为两宋时期。（5 分）

17. (1) 作答应包含以下三个角度：

- ① 结合其个人经历和学术研究背景，对费正清“冲击反应”模式形成的原因进行论述。从蒋廷黻、费正清二人的师承关系和学术研究的背景角度，分析费正清“冲击反应”模式形成的原因；从费正清在华生活经历的角度，分析其思想产生的原因。
- ② 从中国近代社会发展演变历程角度，分析该模式产生的客观原因和历史基础。重在列举史实，证明近代中国社会列强每一次侵略战争客观上都推动了一次重大变化。
- ③ 从唯物史观的角度一分为二地对这一模式进行评价，指出该模式的利弊。

(2) 逻辑清晰，表述成文。

答案示例：

费正清的“冲击反应”模式的形成，与其个人经历有关：蒋廷黻的“现代化叙事”模式对其产生重要影响，他本人长期从事中国传统文化研究，对于中国传统文化的特点也有较深的理解，而其在华期间，日本侵华不断加强，日本侵华引发的中国人民抗争也对其产生了一定的影响。（3分）

这一模式的形成与近代中国的社会状况有关。近代以来，西方列强发动了一系列侵华战争，每次战争之后中国社会都发生了重大变化。例如，第二次鸦片战争之后，清朝开始了洋务运动，后来民族资本主义产生；甲午中日战争之后，中国民族资本主义初步发展，维新派掀起了变法运动；八国联军侵华战争后，清政府进行了“新政”和“预备立宪”。（共4分。答出任意1点2分、答出任意2点4分。）

费正清的“冲击反应”模式从学术研究上看有一定的道理，从一个侧面分析了近代中国社会发展的原因。但其认识是片面的，马克思的唯物史观认为内因起决定作用，近代中国社会的发展虽然受到外国列强侵略的刺激，但中国社会经济结构的变动，特别是近代以来中国仁人志士的主动探索和抗争是社会发展的主要推动力，没有这些因素，近代中国社会是不可能发展的。同时费正清思想中具有“西方中心论”价值取向，这也是值得警惕和批判的。（共6分。从积极和局限两个角度回答，表述合理即可，每个角度3分。）

因此，对于费正清的“冲击反应”模式，应该历史地看待、辩证地看待。（1分）

18、

角度	信息提取（6分）	史料价值（共6分）	
材料来源	材料来自于一个中学生对其爷爷进行采访的口述实录。（2分）	口述者生于1954年，是改革开放时当事人亲身经历、见证者，同时，又是接受其晚辈采访，是当事人亲身经历后的口述、由同距离那个时代较近的人采访记录下来的资料，这是是第一手资料，是研究我市乃至我国改革开放事业可信度较高的第一手资料。（2分）	
材料内容	“分田单干”“湖区贩鱼”“评选致富户”等，反映了农村改革中实行家庭联产承包责任制，鼓励脱贫致富，发展个体经济和商品经济的情况；“农药化肥”“手扶拖拉机”则反映了农村生产技术的不断改进和革新；“下海”“下岗”，反映了国企改革和社会市场经济体制改革人们就业观念的变化等情况。（2分）	可用于研究这一阶段的经济体制的改革与发展成就（2分）	口述实录站在一个普通农民的角度回顾了改革开放在政治、经济、思想等方面对个人、家庭带来的变化和影响，生动反映了我市乃至我国改革事业的巨大
	“参加高考”“职校毕业”（2分）	可用于研究这一阶段的教育事业的发展（2分）	
	公社、新村委、当选村民小组长，反映了撤社建乡、村民自治的情况。（2分）	可用于研究这一阶段的农村基层政权的建设和基层民主建设。（2分）	
	做小生意害怕被批斗、南方谈话等则	可用于研究这一阶段的	

	反映了这一阶段思想观念的解放。(2分)	农村思想解放事业的发展 (2分)	成就。(2分)
--	---------------------	------------------	---------

19、

(1) 顺应工业革命的趋势，大力革新技术，采用蒸汽印刷机，不断提高印刷质量和速度；顺应自由主义思想浪潮的趋势，一方面不断减少政府对报纸的干预，依靠广告和发行收入而充分自立；另一方面，高举民主大旗，监督政府行为，顺应民主制不断完善的趋势；顺应资本主义社会日益分裂为两大对立阶级和无产阶级运动逐渐兴起的社会现实：重视了解各基层的情绪和意见，关注工人和市民诉求，着力推动一些法令的改革；顺应世界市场的初步形成和英国逐渐成为世界工厂的需要，大量刊登国内外要闻，派遣干练的记者奔赴国内外热点地区采访。（答出任意一点 3 分、答出任意两点 6 分、答出任意三点 9 分。有其他表述，能言之成理，持之有据，同等给分）

(2) 可以任意从经济或政治角度作答。总共 6 分。如果从经济政治两个角度作答，同等给分，但总分不超过 6 分。有其他表述，能言之成理，持之有据，同等给分。

经济角度：从《泰晤士报》技术革新的历程来看，英国资本主义经济经历了蒸汽时代、电气时代、信息时代的转型；从《泰晤士报》新闻报道关注的范围和经营者的变化来看，见证了世界市场的形成与发展，也见证了全球化的发展历史；从经营者来看，则体现了资本主义社会从自由资本主义到垄断资本主义的演变历程……（答出任意一点 3 分、答出任意两点 6 分。有其他表述，能言之成理，持之有据，同等给分）

政治角度：从《泰晤士报》关注的受众来看，经历了从关注精英阶层（奢侈品广告）到普通民众来看，见证了英国公民社会地位的上升和英国公民民主的演变历程；从《泰晤士报》坚持言论自由，坚持不受政府干预，可以看到英国近代以来言论自由等制度的执行与演变等。（答出任意一点 3 分、答出任意两点 6 分。有其他表述，能言之成理，持之有据，同等给分）